

TANTAS VECES TANTO


Completa los siguientes ejercicios:



$$\dots + \dots = \dots$$

..... veces es

$$\dots \times \dots = \dots$$



$$\dots + \dots = \dots$$

..... veces es


$$\dots \times \dots = \dots$$



$$\dots + \dots + \dots + \dots = \dots$$

..... veces es

$$\dots \times \dots = \dots$$



..... + + + =

..... veces es

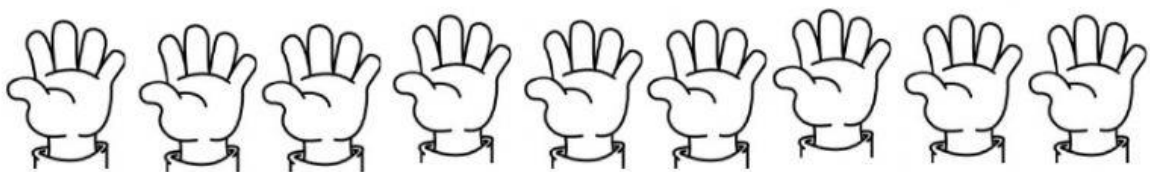
..... X =



Hay bicicletas. Cada bicicleta tieneruedas

En total hay ruedas.

..... X =



Hay manos. Cada mano tiene dedos

En total hay dedos.

..... X =