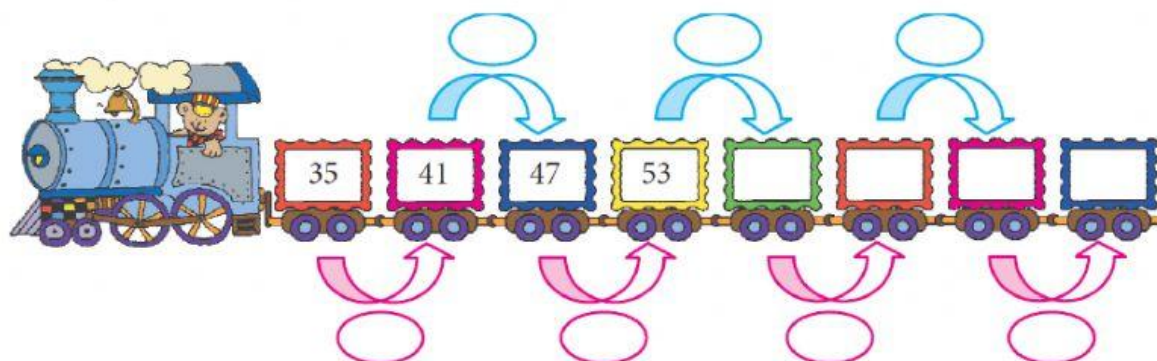


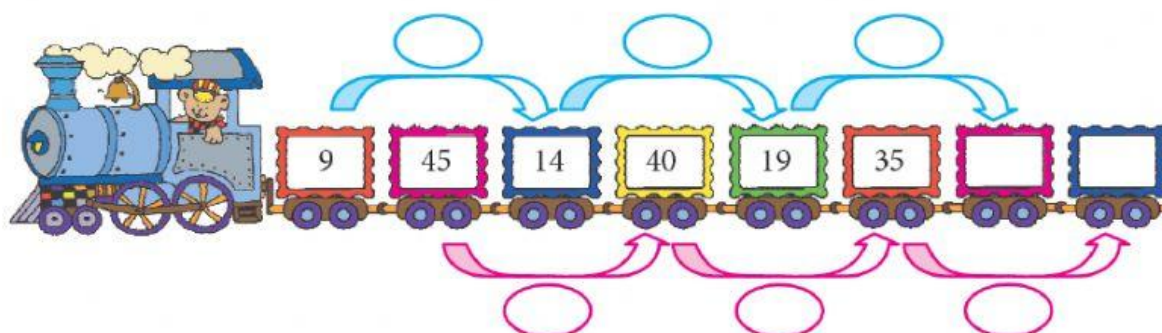
## EVALUACIÓN BIMESTRAL DE RAZONAMIENTO MATEMÁTICO NIVEL 2

Jueves 13 de mayo de 2021

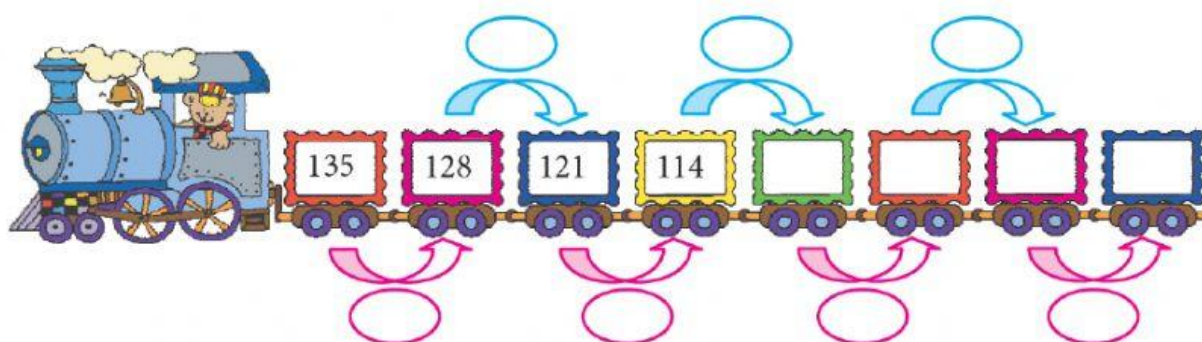
1. Completa:



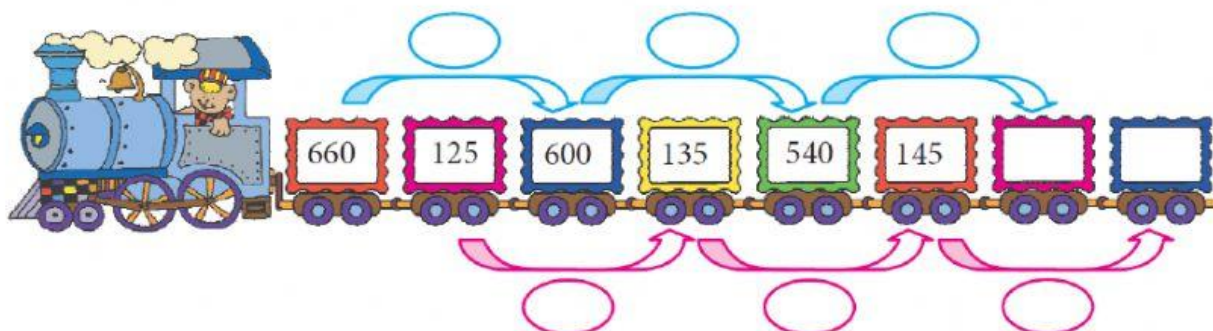
2. Completa:



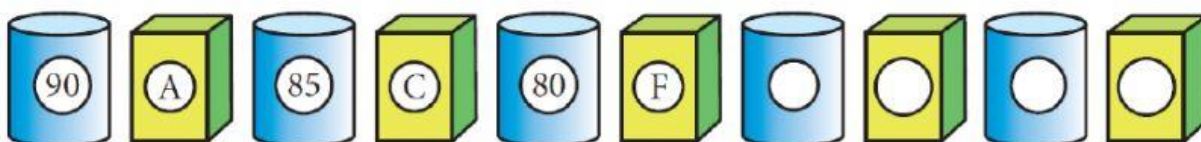
3. Completa:



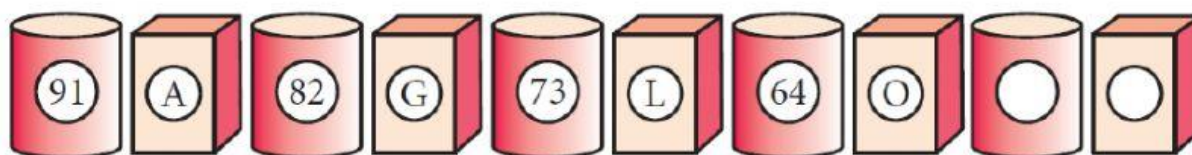
4. Completa:



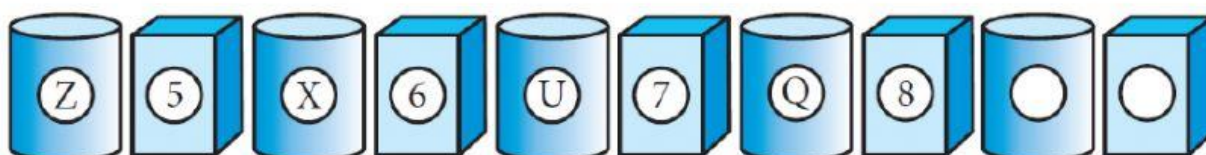
5. Encuentra los términos que faltan en la siguiente sucesión:



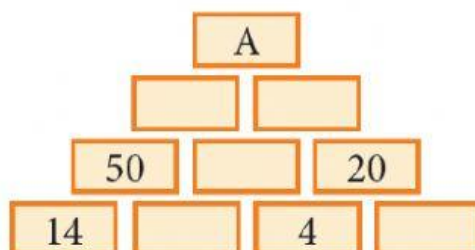
6. Encuentra los términos que faltan en la siguiente sucesión:



7. Encuentra los términos que faltan en la siguiente sucesión:

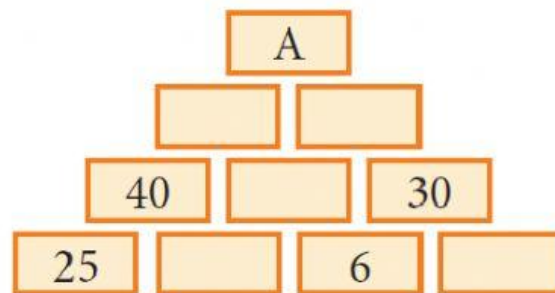


8. Completa y halla el valor de "A".

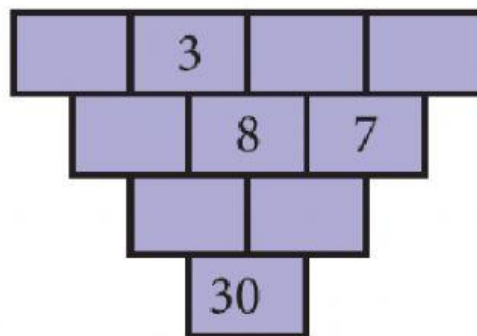




9. Calcular el valor de "A".



10. Completa los espacios en blanco.



11. Completa los espacios en blanco.

$$\begin{array}{r}
 2 \quad \square \quad 1 \quad 3 \quad \square \quad + \\
 \quad \quad 4 \quad \square \quad 8 \\
 \quad 1 \quad \square \quad 3 \quad 2 \\
 \hline
 2 \quad 4 \quad 6 \quad 7 \quad 3
 \end{array}$$

$$\begin{array}{r}
 2 \quad \square \quad 2 \quad \square \quad 7 \quad \square \quad - \\
 \quad 5 \quad 3 \quad 4 \quad \square \quad 3 \\
 \hline
 \square \quad 6 \quad \square \quad 6 \quad 5 \quad 2
 \end{array}$$

