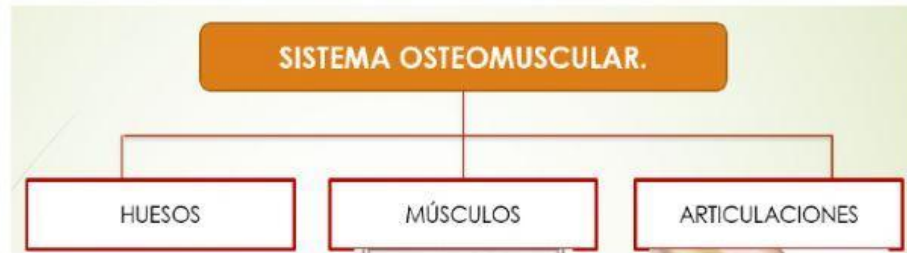
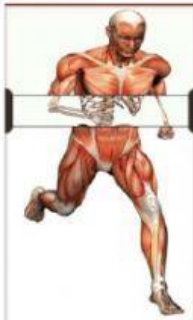


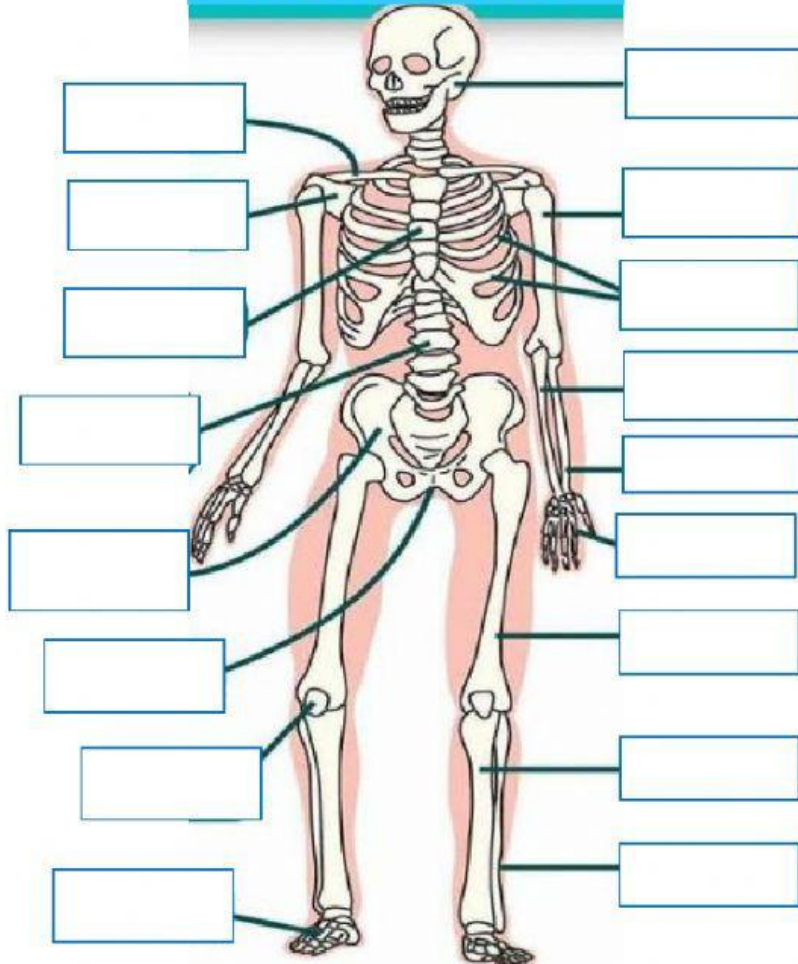
SISTEMA OSTEOMUSCULAR

Completa el Organizador grafico con la imagen correcta.



Escriba el nombre de los huesos señalados en la imagen.

EL ESQUELETO



Une con la información correcta

*El hueso más pequeño del cuerpo humano es.....

*El cuerpo humano tiene huesos

*El hueso más largo del cuerpo humano es el

Fémur

206

Estribo

306

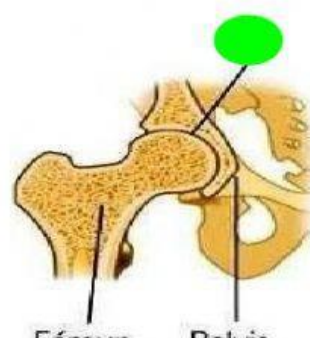
Coloca el número donde corresponde cada tipo de articulación



Huesos del cráneo



Vértabras



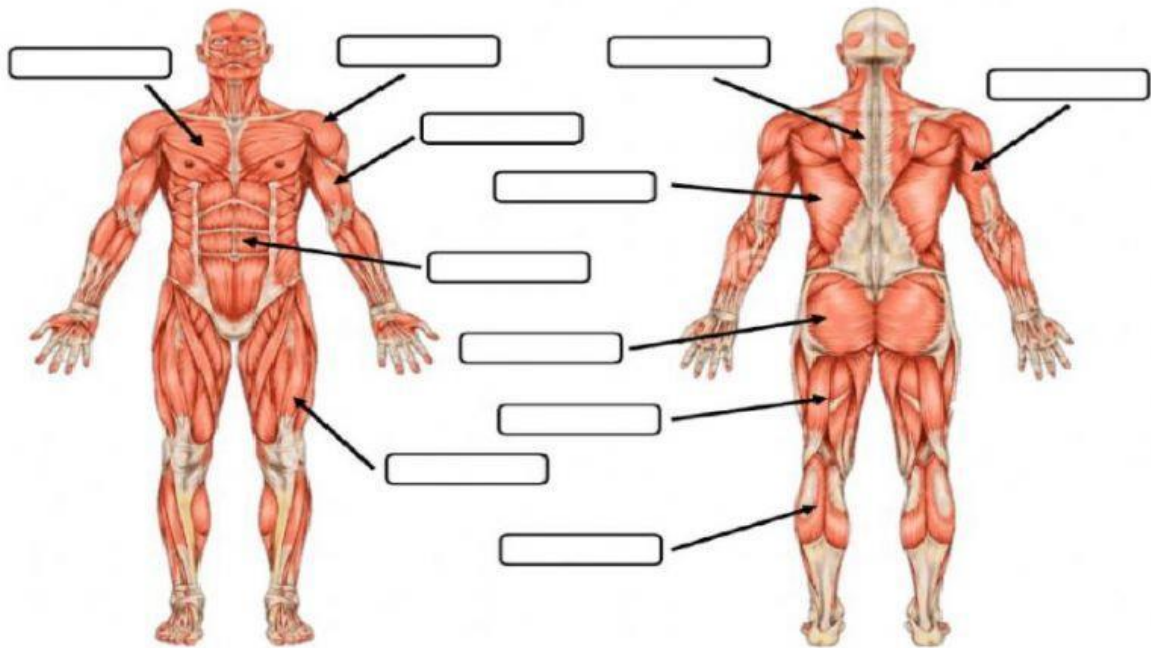
Fémur Pelvis

1. Semimóviles

2. Inmóviles

3. Móviles

Complete los músculos del cuerpo humano



Glúteos

Dorsales

Pectorales

Bíceps

Tríceps

Gemelos

Frontal

Cuádriceps

Trapecio

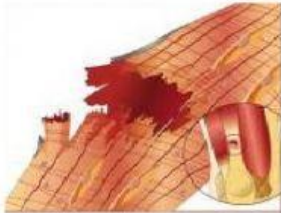
Deltoides

Abdominal

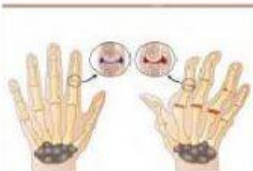
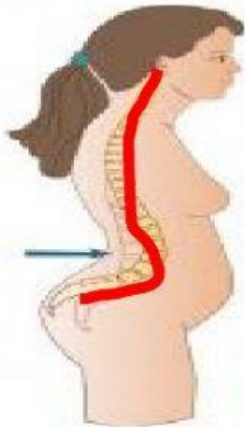
Una la imagen con el nombre de la enfermedad.



Disminución severa de la masa ósea. A mayor edad, mayor propensión.



Provocado por el estiramiento excesivo o rompimiento del músculo.



Inflamación de las articulaciones que provoca su deformidad.

Osteoporosis

Lordosis

Artrosis

Artritis

Desgarre muscular