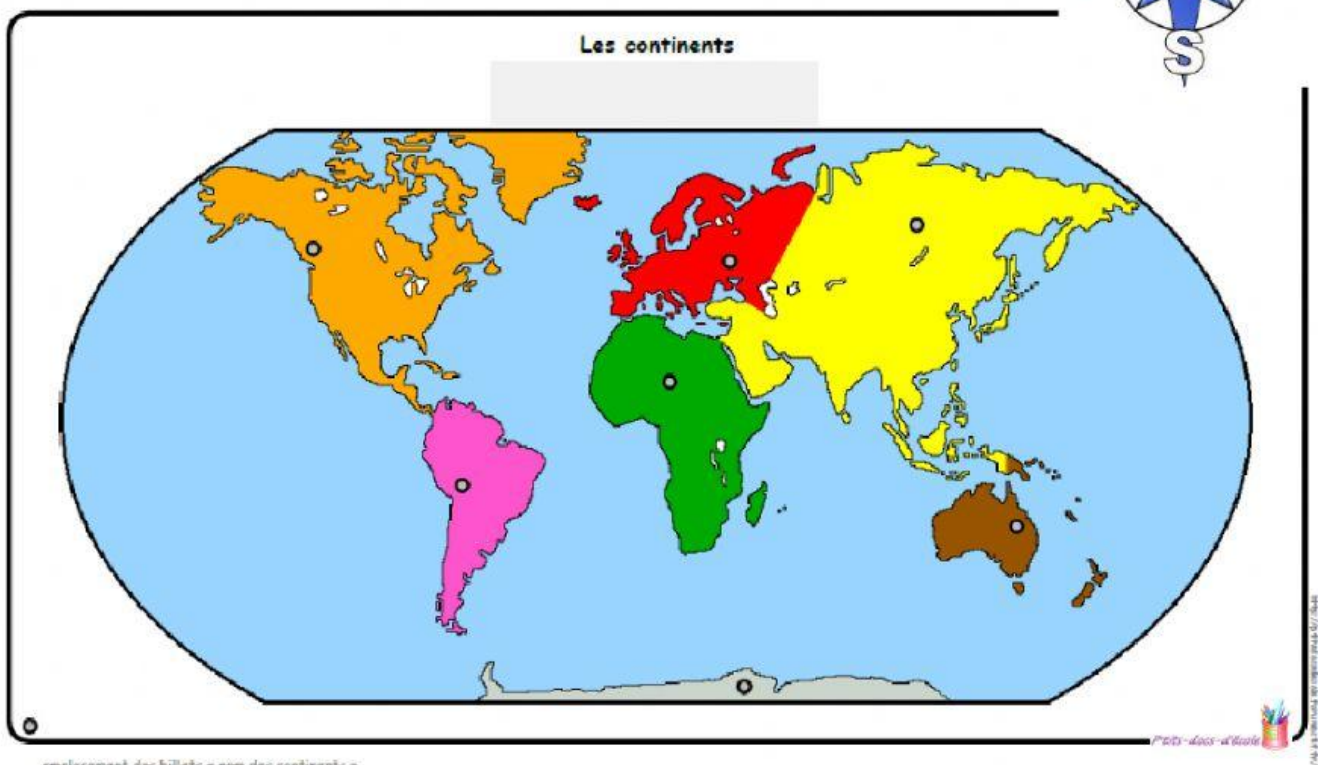
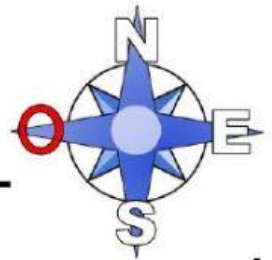


Études Sociales : Caractéristiques physiques et communautés

Activité 1

Place les noms des continents aux bons endroits.

Attention! Dans cette tâche l'Amérique a été divisé en deux continents. Utilise la rose des vents pour bien les placer.



« emplacement des billets « nom des continents » »

AMÉRIQUE DU
NORD

AMÉRIQUE DU
SUD

EUROPE

AFRIQUE

ASIE

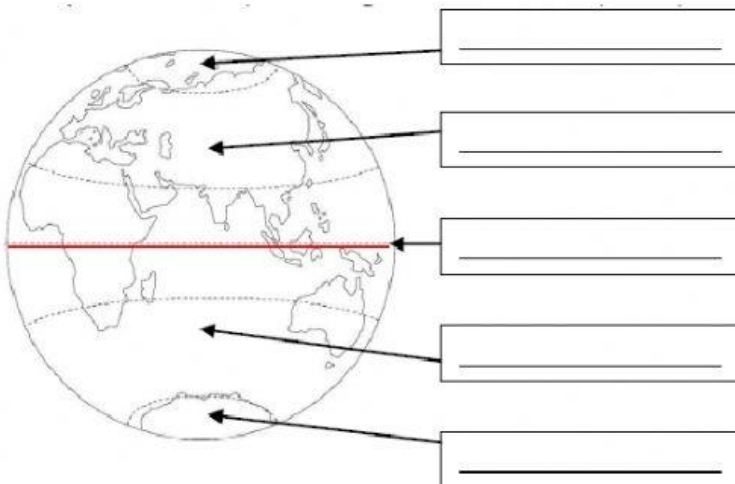
Océanie

ANTARCTIQUE

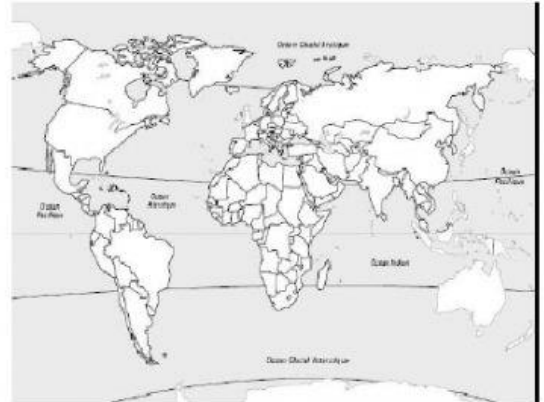
Activité 2

1) Complète les schémas avec les mots suivants :

Pôle Nord, Pôle Sud, hémisphère nord, hémisphère sud, équateur, globe terrestre, planisphère, sphère.



C'est un _____.



C'est un _____.

2) Complète les phrases suivantes. choisis les mots dans la liste de mots de la question 1)

La Terre a la forme d'une _____.

Je peux voir la Terre en un seul coup d'œil sur un _____.

La ligne imaginaire qui sépare la Terre en deux moitiés égales s'appelle : _____.

Quel est le surnom de la Terre ? Pourquoi ? :

La p _____ b _____

- 3) Complète la Rose des vents avec les quatre points cardinaux bien placés.

