
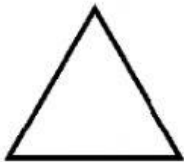
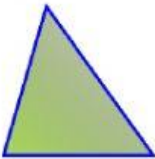
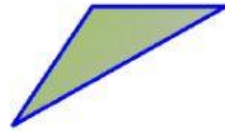


ÁNGULOS Y TRIÁNGULOS

1. Escribe al lado de cada triángulo su nombre:

SEGÚN SUS
LADOS

SEGÚN SUS
ÁNGULOS



2. Une cada ángulo con su tipo:

