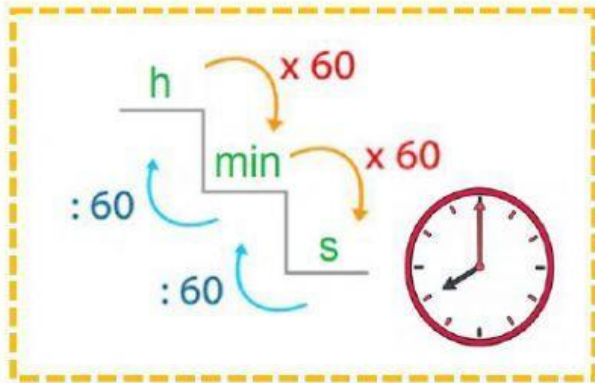
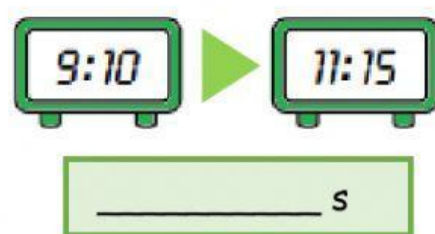
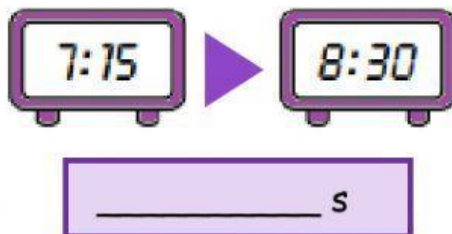
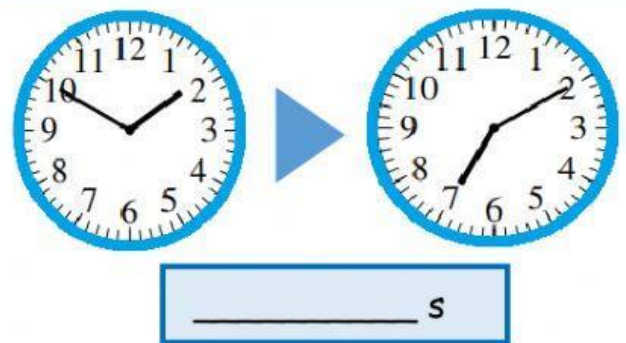
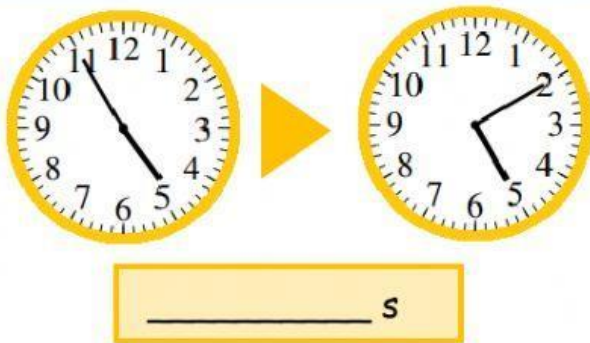


Unidades de TIEMPO



Calcula cuántos segundos han pasado:



Pasa a la unidad indicada:

2h y cuarto = _____ min

4h y 16 min = _____ min

3 h = _____ min

3 min y 24 s = _____ s

4h y 30 s = _____ s

5 min = _____ s

216 min = _____ h y _____ min

3617 s = _____ h _____ min y _____ s

812 s = _____ min y _____ s

8196 s = _____ h _____ min y _____ s



Unidades de TIEMPO

María fue a una obra de teatro que duró 135 minutos. El teatro empezó a las 7 de la tarde.
¿Cuántas horas y minutos duró la obra? ¿A qué hora terminó?



Solución: La obra duró ____ h y ____ min y terminó a las ____ h y ____ min.

Elisa ha estado estudiando 1 horas y 25 minutos, Juan 7.380 segundos y Miguel 162 minutos.
¿Quién ha estudiado más tiempo? ¿Cuántos segundos más que el que menos ha estudiado?



Solución: Ha estudiado más _____ y ha estudiado durante _____ s más.

Un ascensor tarda en subir al 5º piso 72 segundos. Si sube 7 veces al día.
¿Cuántos segundos está subiendo?
¿Cuántos minutos y segundos son?

Solución: Está subiendo _____ s que son _____ minutos y _____ segundos.

Susana salió en bicicleta a las 8 menos diez. Estuvo fuera 185 minutos.
¿A qué hora volvió a casa?



Solución: Llegó a casa a las _____ h y _____ min