



1.- Seleccione a qué tipo de figuras corresponden las imágenes:



Semejantes

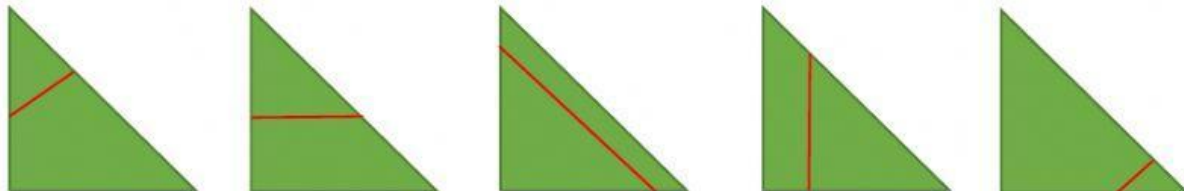
Congruentes



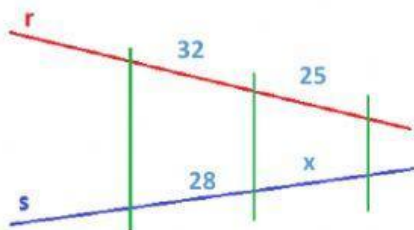
Semejantes

Congruentes

2.- Selecciona las figuras en las que se puede aplicar el Teorema de Thales.



3.- Selecciona la respuesta correcta: ¿Cuánto mide el valor de X?

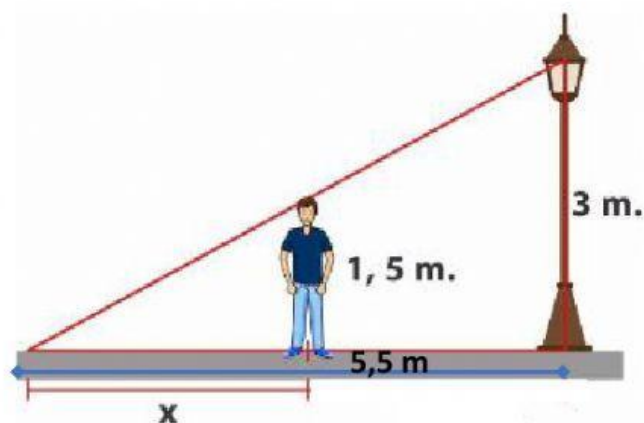


35,84

21,87

28,57

4.- Realiza los cálculos necesarios para saber la sombra de Juan.



2,75

12,5

8,25