



ESCOLA MUNICIPAL CARMELA ORRICO


ALUNO(A): _____

TURMA: 1º C

PROFESSORA: **SIMONE LINDOLFO**

DEZENAS e UNIDADES

1. Clique aqui para escutar o áudio com a explicação:




2. Dê o play e assista esse vídeo que conta a historinha das casas das dezenas e das unidades. Vamos aprender?


3. Conte e ligue as unidades e as dezenas correspondentes:




10



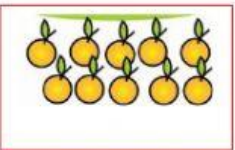
3



6




10



4

4. Conte e arraste com o número corretamente:







10

6

4

7

9


3

5. Complete a sequência numérica arrastando os números abaixo:

1			4						10
		13			16			19	

17	20	3	18	6	7	9
2	12	14	5	15	8	11


6. Conte e marque com um (x) a quantidade corretamente:


→

8

6


2


→

7

3


10


→

1

8

5


→

9

4

10

7. Complete com o número que vem antes e depois:

antes		depois
	7	

antes		depois
	2	

antes		depois
	4	

antes		depois
	8	

antes		depois
	5	

antes		depois
	1	

