


FORMAS Y PATRONES

1. Arrastra el nombre correcto de cada figura

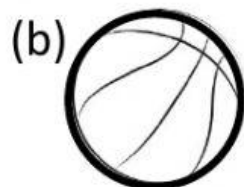


TRIÁNGULO

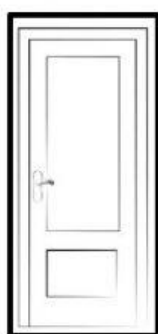
RECTÁNGULO

CÍRCULO


CUADRADO



basketball



door



sandwich


CÍRCULO

RECTÁNGULO

TRIÁNGULO



2. Relaciona los objetos con las formas.



rectángulo

triángulo

círculo

3. ¿Qué figura tiene 4 lados y 4 esquinas o vértices?

_____ y _____

CUADRADO


RECTÁNGULO

4. Lea las siguientes oraciones.

Agrupe las formas escribiendo el número de las oraciones que corresponda con las figuras.

Se ha hecho algunos ejemplos para ti.

- (1) Estas formas tiene 3 vértices y 3 lados.
- (2) Estas formas no tienen esquinas.
- (3) Estas formas tienen 4 vértices y cuatro lados, pero no son cuadrados.
- (4) Estas formas son cuadrados.



Complete los espacios con las palabras correctas del cuadro.

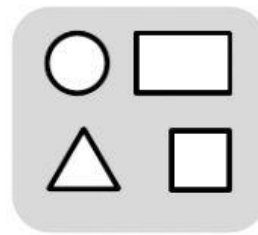
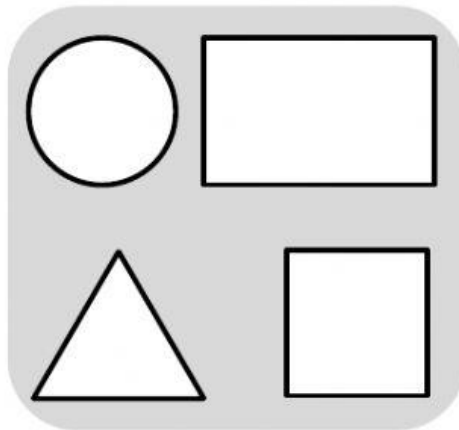
Cada palabra solo se puede usar una vez.

Color

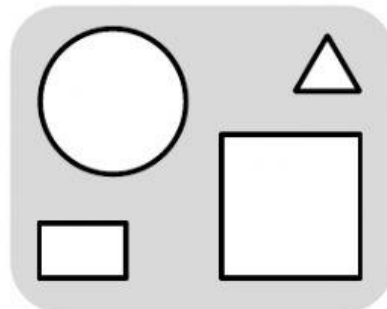

Tamaño

forma

(a) Estas formas están agrupadas según



(b) Estas formas están agrupadas según



(c) Estas formas están agrupadas según

