
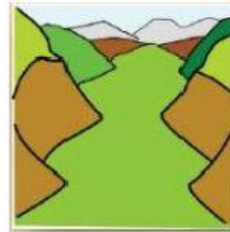

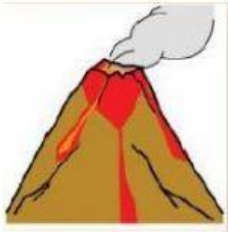




# FORMAS DE RELIEVE

1. Arrastra el nombre que corresponde a la forma de relieve.



CORDILLERA

VOLCÁN

VALLE

MAR

LLANURA

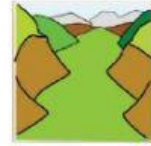
RÍO

MONTAÑA



2. Relaciona cada definición con la forma de relieve.

Cadena de montañas unidas entre sí.



Territorio plano rodeado de montañas.



Elevación de tierra. Está compuesta por 3 partes: cima, falda y pie.



Superficies planas de terreno con vegetación.



Cuerpo de agua salada limitado por costas de un lado y de océano por otro el lado.



Montaña con un cráter que lanza lava, ceniza y roca.



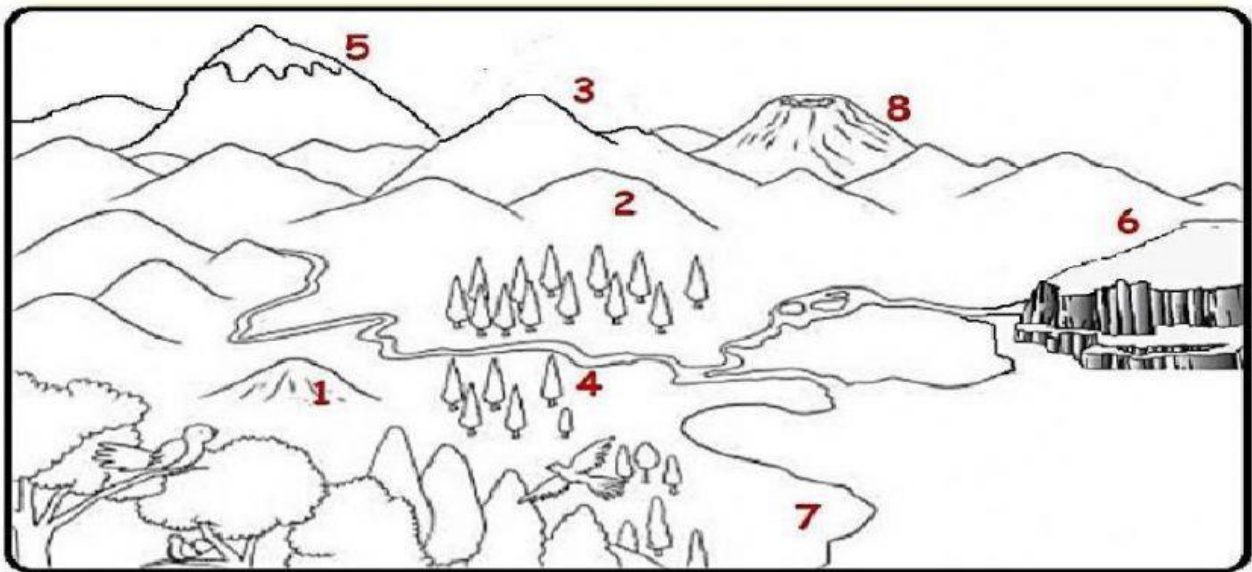
Corrientes de agua dulce que desembocan en otro río o en el mar.





3. Observa la siguiente imagen y luego escribe el nombre de cada forma de relieve.

ALTIPLANO VALLE LLANURA MONTAÑA  
CORDILLERA NEVADO COLINA VOLCÁN



1. \_\_\_\_\_

5. \_\_\_\_\_

2. \_\_\_\_\_

6. \_\_\_\_\_

3. \_\_\_\_\_

7. \_\_\_\_\_

4. \_\_\_\_\_

8. \_\_\_\_\_