

ESCUELA DE EDUCACIÓN BÁSICA PARTICULAR
PATRIA SOBERANA
PRUEBA DE DIAGNÓSTICO

CURSO: CUARTO

ASIGNATURA: MATEMÁTICA

1. Escojo la escritura correcta del número: vale 1 punto:

- A.- Trescientos dos
- B.- Novecientos cincuenta
- C.- Novecientos treinta y siete

937

2.-Completo la secuencia con los números ordinales que faltan. Vale 1 punto:

11°	12°		14°		16°	17°	
-----	-----	--	-----	--	-----	-----	--

- A.- 13°, 15°, 18°
- B.- 18°, 13°, 15°
- C.- 15°, 18°, 13°

3.-Escojo la respuesta correcta de la adición $125+274$ y la sustracción $982 - 494$ Vale 1 punto:

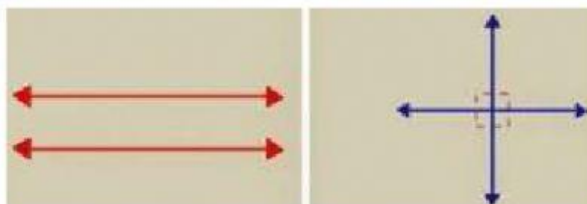
	C	D	U

	C	D	U

OPCIONES
A.- 199, 598
B.- 399, 488
C.- 499, 389

4.-Reconozca el nombre de las siguientes rectas. Vale 1 punto

- A. paralela y secante
- B. perpendicular y secante
- C. paralela y perpendicular



5.-Escojo la respuesta correcta para completar la pregunta Vale 1 punto



¿Qué hora está marcando el reloj? _____

- A. 13: 09 minutos
- B. 10: 09 minutos
- C. 11: 10 minutos

6.-Relaciono con línea el multiplicando con el producto total. vale 1 punto:

1. 7
2. 6
3. 8

X5

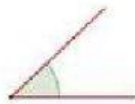
a. 40
b. 35
c. 30

Opciones

- A.-3c, 1a, 2b
- B.-2a, 3b,1c
- C.-1b, 2c, 3^a

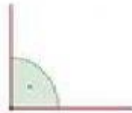
7.-Relacione el ángulo con su respectivo nombre. Vale 1 punto

1.



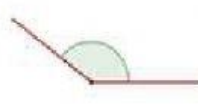
a. obtuso

2.



b. recto

3.



c. agudo

Opciones

- A.-3b, 1a, 2c
- B.-2a, 3c, 1b
- C.-1c, 2b, 3a

8.-Escojo el literal que muestra la multiplicación representada en el siguiente gráfico. Vale 1 punto:



OPCIONES

- 1.- 3 X 6 =
- 2.- 4 X 6 =
- 3.- 6 X 4 =

9.-Escoja la descomposición correcta de la siguiente cantidad de tres cifras. Vale 1 punto

- A. 5U, 2D, 6C
- B. 5C, 6D, 2U
- C. 6C, 5D, 2U

562

10.-Elijo la respuesta correcta para completar el calendario. Vale 1 punto:

Enero			Abril
Mayo		Julio	Agosto
Septiembre	Octubre		Diciembre

- Opciones
- A.-Marzo, Junio, Septiembre, Octubre
 - B.-Febrero, Marzo, Junio, Noviembre
 - c.-Enero, febrero, Marzo, Abril