

OBTENER EL VALOR NUMÉRICO DE CADA FIGURA

“ACERTIJOS MATEMÁTICOS”

¡Tú puedes hacerlo!



Observa muy bien los dibujos lo importante, son los detalles

❖ Respetar la jerarquía de operaciones













-Recuerda que puedes plantear ecuaciones








	+		+		= 30
	+		+		= 20
	+		+		= 9
	+		x		= ?
<input type="text"/>		<input type="text"/>		<input type="text"/>	<input type="text"/>













	=	<input type="text"/>
	=	<input type="text"/>
	=	<input type="text"/>
?	=	<input type="text"/>








	+		+		= 30
	+		+		= 18
	-		= 2		
	+		+		= ?
<input type="text"/>		<input type="text"/>		<input type="text"/>	<input type="text"/>

	=	<input type="text"/>
	=	<input type="text"/>
	=	<input type="text"/>
?	=	<input type="text"/>

 +  +  = 18
 +  +  = 9
 ×  -  = 6
 ×  -  = ??

 
 
 
 ?? 

 +  +  = 30
 +  +  = 22
 +  +  = 16
 ×  +  = ?

 
 
 
 ? 

MATH HEROES

$$\text{Spider} + \text{Spider} = 32$$

$$\text{Superman} + \text{Superman} - \text{Spider} = 4$$

$$\text{Captain America} + \text{Captain America} = 6$$

$$\text{Wonder Woman} + \text{Wonder Woman} + \text{Superman} = 12$$

$$\text{Spider} + \text{Captain America} + \text{Wonder Woman} = ??$$

$$\text{Superman} = \square \quad \text{Superman} = \square$$

$$\text{Captain America} = \square$$

$$\text{Spider} = \square$$

$$\text{Wonder Woman} = \square$$

$$?? = \square$$

RETO

DRAGONMATH

9 DE MAYO: GOKU DAY

$$\frac{1}{4} \cdot \text{Goku}^2 - \text{Goku} = -4$$

$$\text{Vegeta} + \text{Piccolo} = 18$$

$$2 \cdot \text{Piccolo} - \text{Vegeta} + \text{Goku} = 10$$

$$2 \cdot \text{Goku} - \text{Goku} = \text{Vegeta}$$

$$\text{Piccolo} + \text{Goku} \cdot \text{Vegeta} - \text{Goku} = ?$$

$$\text{Goku} = 4$$

$$\text{Vegeta} = \square$$

$$\text{Piccolo} = \square$$

$$\text{Goku} = \square$$

$$? = \square$$