



SEXTO AÑO DE EGB

1.- Escribe la respuesta correcta a la que corresponde. Numerador, Denominador, $\frac{1}{2}$, Fracción.

Concepto	Respuestas
Este símbolo significa "la mitad", pero ¿la mitad de qué?	
Se ubica en la parte superior de una fracción.	
Se ubica en la parte inferior de una fracción.	
Representación de las partes de un todo, es decir, se divide en partes iguales y cada parte es una.	




2.- Realizar las siguientes Fracciones.

 =  $\frac{1}{2} = \frac{2}{4}$
 $\frac{10}{20} = \frac{2}{4}$
 $0,5 = 0,5$

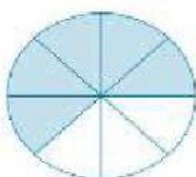

 =  = 

 =  = 

3.- Realizar las siguientes fracciones.

 =  = 

4.- Realizar las siguientes fracciones.

 = 

"El experto en algo fue una vez un novato." (Helen Hayes)

<https://joseacostavallejo.blogspot.com/p/datos.html>