

ESCOLA: _____

DATA: _____

PROFESSORA: _____

ALUNO(A): _____

SUBTRAÇÃO

1- IDEIA DE RETIRAR:

NA CESTA HAVIAM 35 MORANGOS. USEI 23. QUANTOS MORANGOS SOBRARAM?



D	U
—	

CARLOS COMPROU 47 BILOCAS. DEU 31 PARA O SEU IRMÃO. QUANTAS BILOCAS CARLOS TEM AGORA?



D	U
—	

2- IDEIA DE COMPARAR:


EXEMPLO:

SARA TEM 15 ANOS E LÉIA TEM 5. QUANTOS ANOS SARA TEM A MAIS QUE LÉIA?




D	U
—	

NO PASSEIO DA ESCOLA FORAM USADOS DOIS ÔNIBUS. O PRIMEIRO TINHA 38 ALUNOS E O SEGUNDO 16. QUAL A DIFERENÇA DE ALUNOS ENTRE OS DOIS ÔNIBUS?


	<table border="1"> <tr> <td>D</td> <td>U</td> </tr> <tr> <td></td> <td></td> </tr> <tr> <td>—</td> <td></td> </tr> <tr> <td></td> <td></td> </tr> </table>	D	U			—			
D	U								
—									

3- IDEIA DE COMPLETAR:

PARA DANÇAR QUADRILHA A PROFESSORA CONVIDOU 65 CRIANÇAS. JÁ CHEGARAM 42. QUANTAS AINDA FALTAM?

	<table border="1"> <tr> <td>D</td> <td>U</td> </tr> <tr> <td></td> <td></td> </tr> <tr> <td>—</td> <td></td> </tr> <tr> <td></td> <td></td> </tr> </table>	D	U			—			
D	U								
—									

NA SALA DA TIA SANDRA TEM 36 CADEIRAS. JÁ CHEGARAM 11 CRIANÇAS. QUANTOS ALUNOS AINDA FALTAM CHEGAR?

	<table border="1"> <tr> <td>D</td> <td>U</td> </tr> <tr> <td></td> <td></td> </tr> <tr> <td>—</td> <td></td> </tr> <tr> <td></td> <td></td> </tr> </table>	D	U			—			
D	U								
—									

