


PROFESSORA:

ALUNO(A):


SUBTRAÇÃO

1- IDEIA DE RETIRAR:

NA CESTA HAVIAM 58 MORANGOS. USEI 23. QUANTOS MORANGOS SOBRARAM?

| | | | | | | | | | |
|---|---|---|---|--|--|---|--|--|--|
|  | <table border="1" style="margin: auto; border-collapse: collapse;"> <tr> <td style="width: 50px; height: 30px; text-align: center;">D</td> <td style="width: 50px; height: 30px; text-align: center;">U</td> </tr> <tr> <td style="height: 30px;"></td> <td style="height: 30px;"></td> </tr> <tr> <td style="height: 30px; text-align: center;">—</td> <td style="height: 30px;"></td> </tr> <tr> <td style="height: 30px;"></td> <td style="height: 30px;"></td> </tr> </table> | D | U | | | — | | | |
| D | U | | | | | | | | |
| | | | | | | | | | |
| — | | | | | | | | | |
| | | | | | | | | | |


CARLOS COMPROU 85 BILOCAS. DEU 23 PARA O SEU IRMÃO. QUANTAS BILOCAS CARLOS TEM AGORA?

| | | | | | | | | | |
|--|---|---|---|--|--|---|--|--|--|
|  | <table border="1" style="margin: auto; border-collapse: collapse;"> <tr> <td style="width: 50px; height: 30px; text-align: center;">D</td> <td style="width: 50px; height: 30px; text-align: center;">U</td> </tr> <tr> <td style="height: 30px;"></td> <td style="height: 30px;"></td> </tr> <tr> <td style="height: 30px; text-align: center;">—</td> <td style="height: 30px;"></td> </tr> <tr> <td style="height: 30px;"></td> <td style="height: 30px;"></td> </tr> </table> | D | U | | | — | | | |
| D | U | | | | | | | | |
| | | | | | | | | | |
| — | | | | | | | | | |
| | | | | | | | | | |


2- IDEIA DE COMPARAR:

EXEMPLO:

SARA TEM 15 ANOS E LÉIA TEM 5. QUANTOS ANOS SARA TEM A MAIS QUE LÉIA?


| | | | | | | | | | |
|---|---|---|---|--|--|---|--|--|--|
|  | <table border="1" style="margin: auto; border-collapse: collapse;"> <tr> <td style="width: 50px; height: 30px; text-align: center;">D</td> <td style="width: 50px; height: 30px; text-align: center;">U</td> </tr> <tr> <td style="height: 30px;"></td> <td style="height: 30px;"></td> </tr> <tr> <td style="height: 30px; text-align: center;">—</td> <td style="height: 30px;"></td> </tr> <tr> <td style="height: 30px;"></td> <td style="height: 30px;"></td> </tr> </table> | D | U | | | — | | | |
| D | U | | | | | | | | |
| | | | | | | | | | |
| — | | | | | | | | | |
| | | | | | | | | | |

NO PASSEIO DA ESCOLA FORAM USADOS DOIS ÔNIBUS. O PRIMEIRO TINHA 38 ALUNOS E O SEGUNDO 26. QUAL A DIFERENÇA DE ALUNOS ENTRE OS DOIS ÔNIBUS?


| | | | | | | | | | |
|---|--|---|---|--|--|---|--|--|--|
|  | <table border="1"> <tr> <td>D</td> <td>U</td> </tr> <tr> <td></td> <td></td> </tr> <tr> <td>—</td> <td></td> </tr> <tr> <td></td> <td></td> </tr> </table> | D | U | | | — | | | |
| D | U | | | | | | | | |
| | | | | | | | | | |
| — | | | | | | | | | |
| | | | | | | | | | |

3- IDEIA DE COMPLETAR:

PARA DANÇAR QUADRILHA A PROFESSORA CONVIDOU 88 CRIANÇAS. JÁ CHEGARAM 62. QUANTAS AINDA FALTAM?

| | | | | | | | | | |
|--|--|---|---|--|--|---|--|--|--|
|  | <table border="1"> <tr> <td>D</td> <td>U</td> </tr> <tr> <td></td> <td></td> </tr> <tr> <td>—</td> <td></td> </tr> <tr> <td></td> <td></td> </tr> </table> | D | U | | | — | | | |
| D | U | | | | | | | | |
| | | | | | | | | | |
| — | | | | | | | | | |
| | | | | | | | | | |

NA SALA DA TIA SANDRA TEM 36 CADEIRAS. JÁ CHEGARAM 11 CRIANÇAS. QUANTOS ALUNOS AINDA FALTAM CHEGAR?

| | | | | | | | | | |
|---|--|---|---|--|--|---|--|--|--|
|  | <table border="1"> <tr> <td>D</td> <td>U</td> </tr> <tr> <td></td> <td></td> </tr> <tr> <td>—</td> <td></td> </tr> <tr> <td></td> <td></td> </tr> </table> | D | U | | | — | | | |
| D | U | | | | | | | | |
| | | | | | | | | | |
| — | | | | | | | | | |
| | | | | | | | | | |

