

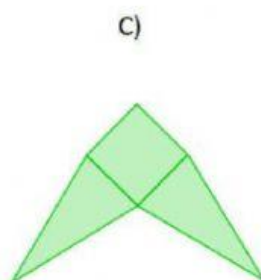

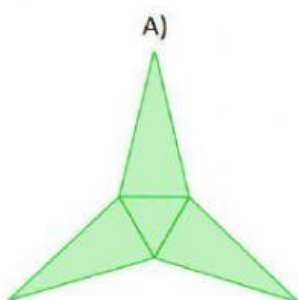
C OMPLETA LA FICHA:

La carpa de Mateo tiene la tela rota así que su mamá se la piensa cambiar.

La carpa tiene piso y su forma es la de una pirámide de base cuadrada como la de la foto.



¿Cuál de los siguientes podría ser el molde que debe utilizar la mamá para cortar la tela?



- ☐ A)
- ☐ B)
- ☐ C)
- ☐ D)