



Ejercicios de área y/o perímetro

1 a. Halla el área y el perímetro de este rectángulo.



1 b. Halla el área y el perímetro de este rectángulo.



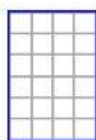
2 a. Halla el área y el perímetro de este rectángulo.



2 b. Halla el área y el perímetro de este rectángulo.



3 a. Halla el área y el perímetro de este rectángulo.



3 b. Halla el área y el perímetro de este rectángulo.

