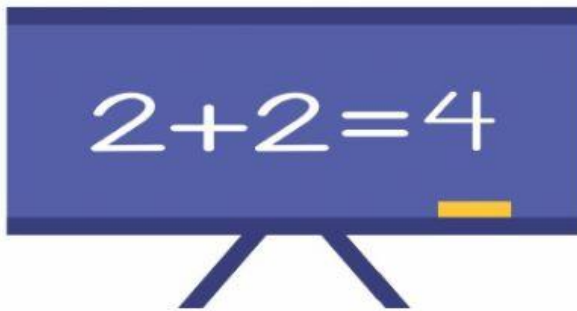


1 Observa cada dibujo y escribe cuántos litros son.



3 Observa y marca la medida correcta.



4 Ordena los números de menor a mayor.



5 **Completa.**

Número	C	D	U	Se escribe
639				
770				
	9	3	2	
				setecientos noventa
				seiscientos ocho
				novecientos diez

6 **Calcula.**

$6 \times 4 = \square$
 $6 \times 6 = \square$
 $6 \times 8 = \square$
 $6 \times 9 = \square$

7 **Ordena los números de mayor a menor.**

768
801
978
799
□
○
□
○
□
○
□

8 **Observa. Después, calcula y contesta.**


¿Cuántos globos hay en total?

$\square \times \square = \square$



Solución ▶

¿Cuántos huevos hay en total?





Suma ▶ $\square + \square + \square + \square + \square = \square$

Multiplicación ▶ $\square \times \square = \square$

Hay \square huevos.

- 9 **Reparte, en partes iguales, 15 champiñones entre 3 cestos. Después, completa.**



: = ► *En cada cesto hay*

- 10 **Ordena los números de mayor a menor.**

○ ○ ○

- 11 **Resuelve.**

Marta tenía 47 discos de música clásica y 24 de música rock. Le ha regalado 33 discos a su hermano. ¿Cuántos discos le quedan?

Primero sumamos para calcular cuántos discos tiene en total. ►

Después restamos para calcular cuántos discos le quedan. ►



Solución ►