



Colegio
Santa Luisa

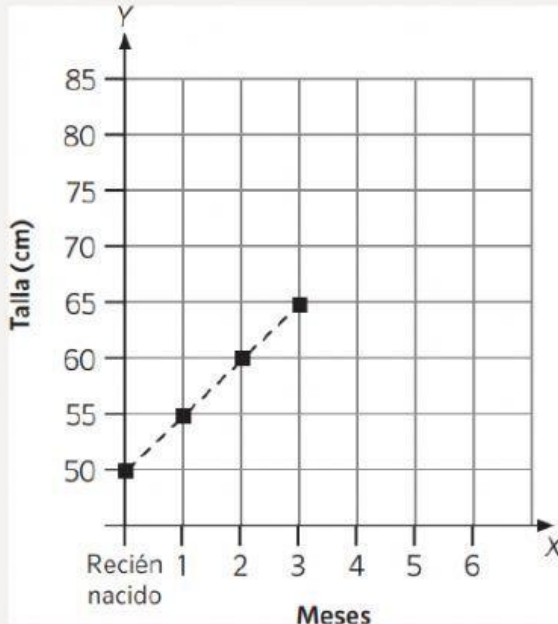
Colegio Santa Luisa
MATHEMATICAL THINKING - WORK LISTING
GRADE FOUR



SESIÓN 2

Graficos lineales

1. Observa el gráfico y responde:



“Martha, la mamá de Mateo, revisa en un gráfico de líneas cómo la pediatra ha registrado la talla de su hijo desde su nacimiento hasta los tres meses”.

a) ¿Con cuántos centímetros nació Mateo?


Respuesta:

b) ¿Cuántos centímetros creció hasta el primer mes?

Respuesta:

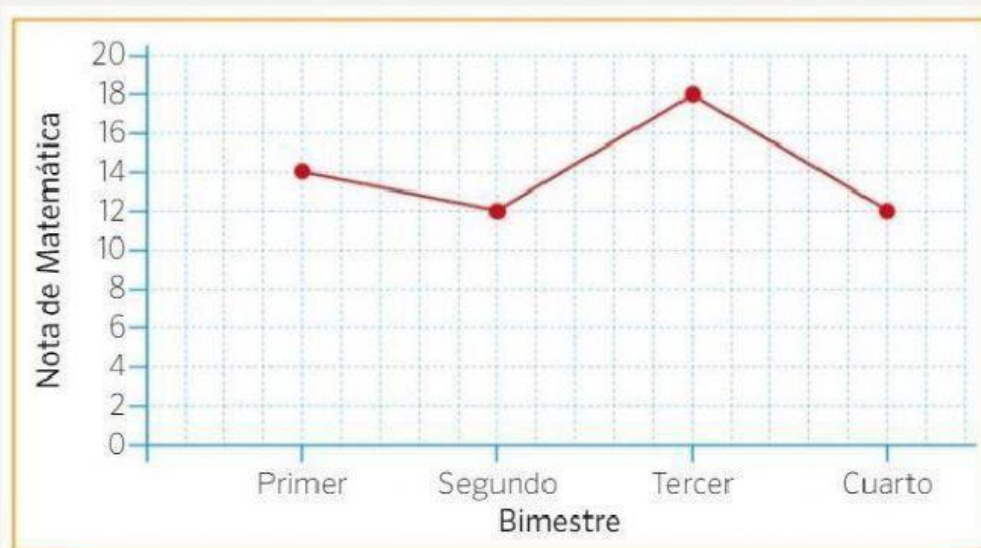
c) ¿Cuál es la talla de Mateo en su tercer mes?

Respuesta:



2.- Observa el gráfico de líneas y completa la tabla de frecuencia:

NOTA FINAL DE MATEMÁTICA



“ ”

3.- Responde en base a la información anterior.

a) ¿En qué bimestre se obtuvo la mayor nota?

Respuesta:

b) ¿En qué bimestres se observa la misma nota?

Respuesta:



4.- En tu cuaderno representa los datos de la tabla en un gráfico de líneas.

“La mamá de Andrea trabaja en un consultorio pediátrico. Ella registró en una tabla el número de bebés que se vacunaron contra la polio durante la primera mitad del año”.

Mes	Enero	Febrero	Marzo	Abril	Mayo	Junio
Número de bebés vacunados	100	80	120	70	150	120

5.- Responde en base a la información anterior.

- a) ¿Cuántos bebés se vacunaron en el primer bimestre del año?

Respuesta:

- b) ¿En qué mes se observa mayor aumento de bebés vacunados?

Respuesta:

