

MATEMÁTICAS

Problema1

Mi prima tiene 28 años

¿En qué año nació? _____

Si mi hermano tiene 12 años

¿en qué año nació? _____

Problema2

Voy al mercado con 235€...me gasto 13€ en carne 28€ en pescado y 112€ en fruta

¿cuántos euros me sobran?

Me sobran _____ euros

Problema3

Hoy es lunes....Mi madre compró 6 refrescos...¿Puedo tomarme 1 refresco cada día hasta el próximo lunes?

¿Porqué?

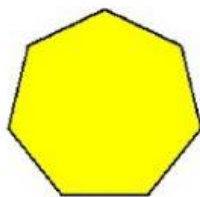
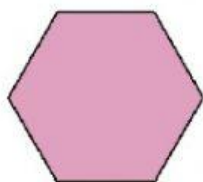


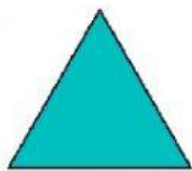
Problema4

Tengo cinco sobres con 2 cromos, dos sobres con 15 cromos cada uno y cinco sobres con 6 cromos cada uno

¿cuántos cromos tengo en total?

Problema5

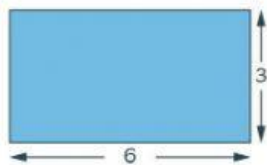
Escribe el nombre de estas figuras



problema6

Calculamos el perímetro (es la suma de todos los lados)

Señala cuál es el perímetro de las figuras indicadas

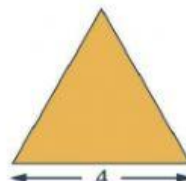


24

18

12

9

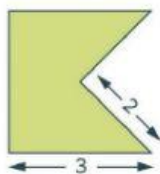


4

16

8

12

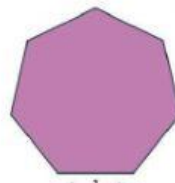


13

15

10

5



8

5

7

6

Ordena los siguientes precios de mayor a menor

3,5 - 2,9 - 1,9 - 1,2 - 3,3

Problema10

¿cuántos euros tengo?



Problema11

Cuando ando voy a 5 kilómetros a la hora

Si quiero andar 90km ¿ Cuántas horas tardaré?

He andado _____ horas

Problema13

Mis 4 amigos y yo nos vamos al bosque a recoger setas. En total recogimos 215. Si luego nos las queremos repartir en partes iguales ¿Cuántas setas tocaremos cada uno ?

Tocaremos a _____ setas

Problema14

Ordena los siguientes números de menor a mayor

1235 - 1532 - 1253 - 1203 - 1301

Problema16

Calcula la mitad y el doble

	mitad	doble
14,4		
14,6		

Problema17

Salgo de casa a las 17:25 de la tarde. Juego en el parque durante 1h y 20min.... Doy un paseo durante 10min

¿a qué hora vuelvo a casa?

Vuelvo a las ____:____