












GUÍA SOBRE PLANOS Y SIMBOLOS


Planos con dibujos y símbolos

1.- Observa el siguiente plano y completa la simbología en el plano de la derecha según corresponda.

 Tienda	 Alcaldía	 Droguería
 Banco	 Hospital	 Casa de familia
 Centro comunal	 Colegio	 Iglesia



2- Observa el plano de la sala de clases y responde las preguntas:



a. ¿Cuántas sillas hay en la sala?

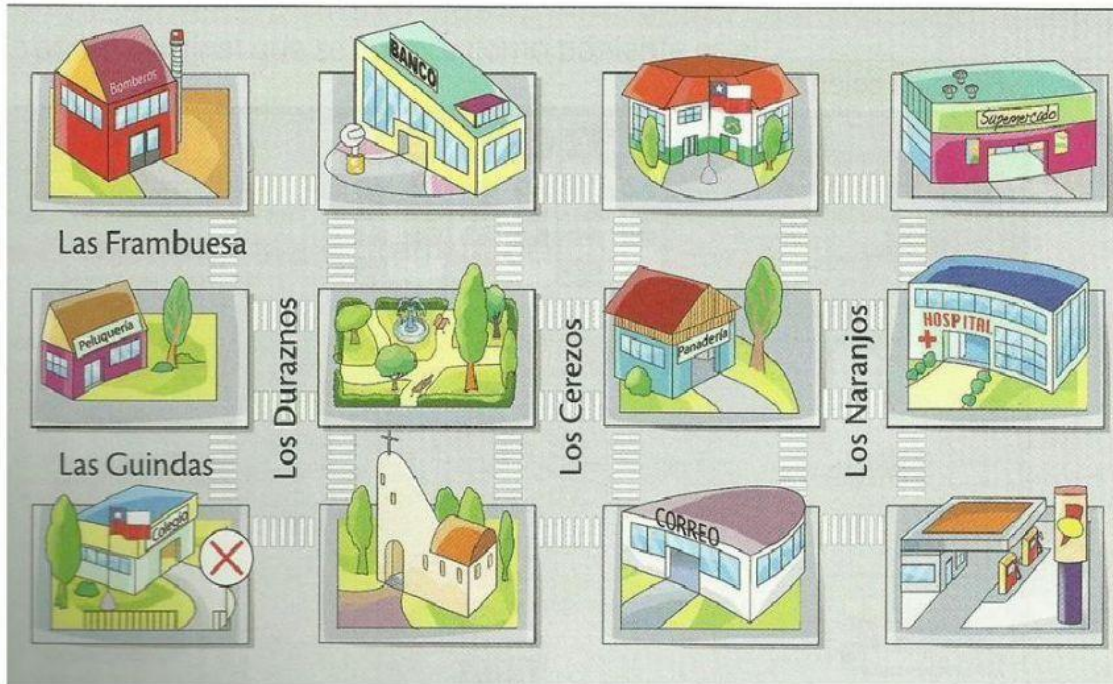
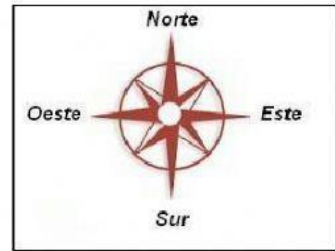
b. ¿Qué se encuentra a la derecha del diariomural?

c. ¿Cuántas ventanas hay?

d. ¿Qué se encuentra a la derecha de los bancos de los niños?

e. ¿Qué se encuentra delante de los bancos de los niños?

3.- Observa el siguiente plano y completa las oraciones según corresponda (usando los puntos cardinales)



- a) El supermercado está al _____ del banco.
- b) La peluquería está al _____ de la panadería.
- c) El colegio está al _____ de los bomberos.
- d) El parque está al _____ de la iglesia.
- e) El correo está al _____ de la panadería.
- f) El supermercado está al _____ del hospital.
- g) El banco está al _____ del parque.
- h) La comisaría está al _____ del correo.

4.- Observa el siguiente plano, sigue las instrucciones y señala el lugar al cual llegas:



a) Comienza en la escuela, avanza dos cuadros hacia abajo y tres cuadros hacia la derecha, ¿a qué lugar llegas?

_____.

b) Comienza en la zapatería, avanza un cuadro hacia la derecha y dos cuadros hacia arriba, ¿a qué lugar llegas?

_____.

c) Comienza en el cine, avanza dos cuadros hacia la izquierda y dos cuadros hacia abajo, ¿a qué lugar llegas?

_____.

d) Comienza en el restaurante Carne asada, avanza un cuadro hacia arriba y dos cuadros hacia la izquierda, ¿a qué lugar llegas? _____.