





COMPLETA CON LOS NÚMEROS QUE FALTAN



RESPONDE, PUEDES AYUDARTE CON EL TABLERO ANTERIOR:

¿QUÉ NÚMERO ESTÁ ENTRE EL 9 Y EL 11?

¿Y ENTRE EL 18 Y EL 20?

SI CAEN EN EL 8, ¿A QUÉ CASILLERO AVANZAN?

SI CAES EN VERDE -> AVANZAS 1
SI CAES EN NARANJA -> RETROCEDES 1

¿Y SI CAEN EN EL 11?

SI CAEN EN EL 5, ¿A QUÉ CASILLERO RETROCEDEN?

¿Y SI CAEN EN EL 14?

2 ▶ ESCRIBÍ LOS NÚMEROS QUE FALTAN EN ESTOS TABLEROS.

