

NOME:

DATA:

PROFª:


5º ANO:

ATIVIDADE DE GEOGRAFIA- COMPREENSÃO DO MUNDO PATES III

1-Escreva o nome das pontos Cardeais.



2-À rosa -dos- ventos apresenta dois erros identifique-os e colore as duas alternativas erradas.



3- Complete as lacunas com as palavras do quadro ao lado:

SOL - CRUZEIRO DO SUL - CARDEAIS

*A rosa -dos- ventos é formada pelos pontos _____ e colaterais.

*Algumas estrelas e constelações que se destacam no céu também passaram a ser utilizadas para indicar direção como _____, no hemisfério Sul.

*A direção onde o _____ aparece no céu ficou determinada como nascente.

4. A menina está se orientando pelo Sol. Observe a figura.



Complete:

- a) À frente da menina está o _____, Nesse sentido você vê _____
- b) Atrás da menina está o _____, Nesse sentido você vê _____
- c) À direita da menina está o _____, Nesse sentido você vê _____
- d) À esquerda da menina está o _____, Nesse sentido você vê _____

5. A forma mais comum de orientação na superfície terrestre é por meio de referenciais chamados pontos cardeais e colaterais. Esses referenciais indicam direções e sentidos.

Agora é com você! Responda as questões abaixo:

a) Quantos são os pontos cardeais?

b) Quais são eles?

c) Quantos são os pontos colaterais?

d)Quais são eles?

6.A rosa-dos-ventos é onde representamos os pontos cardeais e os colaterais. Sendo assim, complete a rosa dos ventos abaixo com as informações que estão faltando.



7.Observe a figura abaixo e responda o que se pede:




- a) A escola está a _____ da praça.
- b) O hospital está ao _____ da praça.
- c) A loja está a _____ da praça.
- d) As casas estão ao _____ da praça.

8. De acordo com os nossos estudos vimos que podemos nos orientar observando a localização do Sol. Ele aparece de manhã e esconde-se no final da tarde. Aprendemos ainda, a posicionar o nosso corpo para determinarmos os pontos cardeais utilizando o Sol como referencial. Sendo assim, complete os espaços com os pontos cardeais. Não se esqueça de observar o nascente e o poente.



9. Os pontos cardeais e os colaterais são representados pela rosa-dos-ventos. Observe a rosa dos ventos abaixo e responda o que se pede.



Os números e as letras representam respectivamente:

- as vogais e os números;
- os pontos cardeais e os números;
- as consoantes e os pontos colaterais;
- ao pontos cardeais e os pontos colaterais.

10. Observe a informação abaixo e marque a resposta correta:

É o ponto colateral que está entre o norte e o oeste.

- Nordeste;
- Sudeste;
- Noroeste;
- Sudoeste.



Você brilha como uma estrela!

Observe a ilustração e complete as questões a seguir.

- Considerando a **escola** como ponto de referência, localize os pontos indicados, utilizando somente os pontos cardiais e colaterais.
 - O aeroporto localiza-se a _____ da escola.
 - O estádio de futebol localiza-se a _____ da escola.
 - A rodoviária localiza-se a _____ da escola.
 - O parque localiza-se a _____ da escola.
- Faça o mesmo, agora considerando o **parque** como ponto de referência.
 - O aeroporto localiza-se a _____ do parque.
 - O estádio de futebol localiza-se a _____ do parque.
 - A igreja localiza-se a _____ do parque.

Observe a planta. Ela mostra os bairros de um município imaginário. Partindo de onde está a Prefeitura, escreva qual direção devemos seguir para chegar aos seguintes bairros:



Bairro do Pomar.

Bairro das Indústrias.

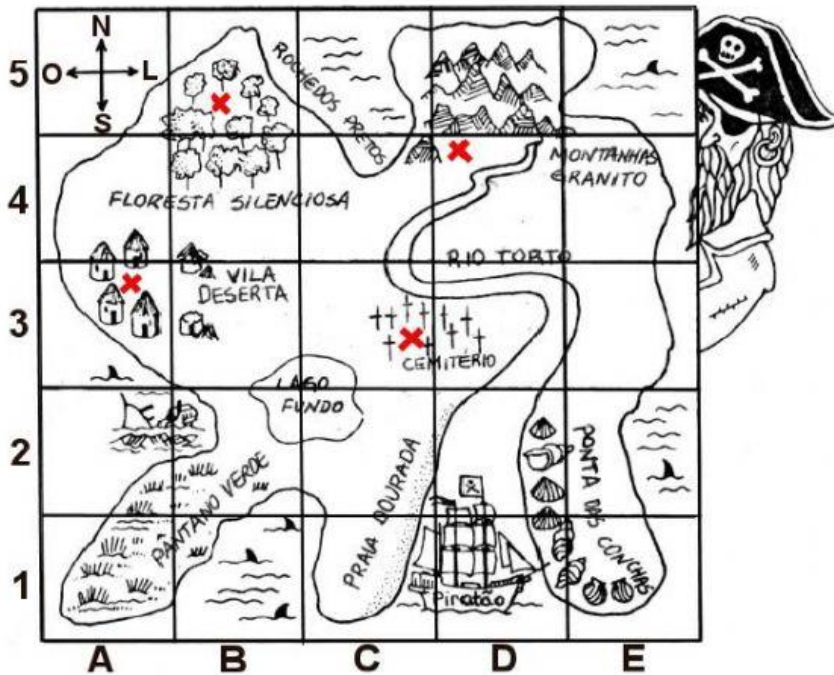
Bairro dos Jardins.

Bairro das Pedras.

Mapa do tesouro

O Capitão da Perna de Pau enterrou seus tesouros em vários lugares da Ilha dos Tubarões.

Estes lugares estão marcados com um X no mapa.



- O ouro está no quadro (5,B).
- A prata está no quadro (4,D).
- O cobre está no quadro (3,A).
- A caixa de joias está no quadro (3,C).

Usando O mapa e as informações ao lado, responda as questões:

• Complete:

- A) _____ está no pé das Montanhas Granito.
- B) _____ está na Floresta Silenciosa.
- C) _____ está no centro do cemitério.
- D) _____ está na Vila Deserta.

• O navio do Capitão se chama "Piratão". Qual o código da localização do navio neste mapa?