

OBA! HOJE TEM MAIS UMA HISTÓRIA DA BIA VILLELA



ACOMPANHE-A HISTÓRIA ABAIXO:

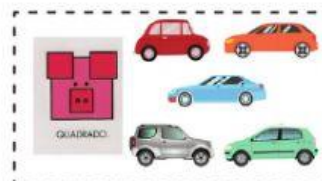

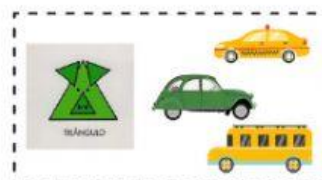


GOSTOU DA HISTÓRIA? EU ADOREI. AGORA MOSTRE QUE VOCÊ É SUPER ESPERTO COMO OS PORQUINHOS E RESPONDA AS QUESTÕES ABAIXO:

OBSERVE A COLEÇÃO DE CARRINHOS DE CADA UM DOS PORQUINHOS. QUAL PORQUINHO TÊM MAIS CARRINHOS? MARQUE A OPÇÃO CORRETA.

() TRIÂNGULO

() QUADRADO





OBSERVE O NÚMERO DAS CASAS
ABAIXO LIGUE QUAL SERÁ O NÚMERO
DA PRÓXIMA CASA.



ARRASTE O NUMERO QUE REPRESENTA A QUANTIDADE DE PORCOS QUE APARECE NA IMAGEM
ABAIXO?



6

8