

MATEMÁTICAS

Problema1

Mi tía 52 años

¿En qué año nació? _____

Si mi abuelo tiene 72 años

¿en qué año nació? _____

Problema2

Voy al mercado con 500€...me gasto 135€ en carne
128€ en pescado y 112€ en fruta
¿cuántos euros me sobran?

Me sobran _____ euros

Problema3


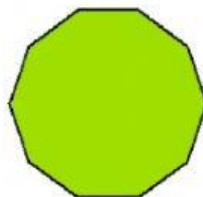
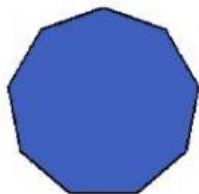
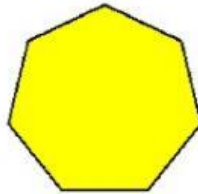
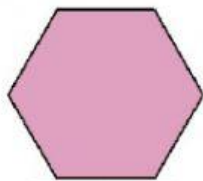


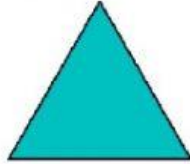
Hoy es viernes....Mi madre compró 10 yogures...¿Puedo
comerme 2 yogures cada día hasta el próximo martes?
¿Porqué?

Problema4

Tengo dos sobres con 1 cromos, tres sobres con 10
cromos cada uno y cinco sobres con 2 cromos cada uno
¿cuántos cromos tengo en total?

Problema5

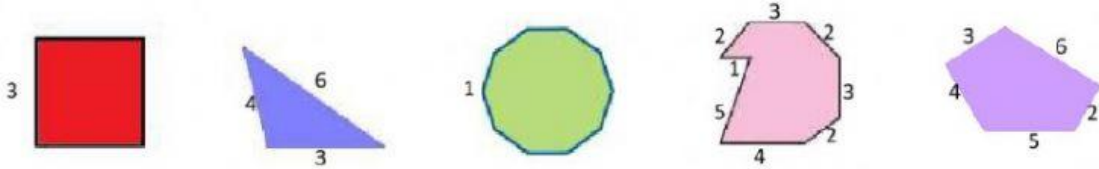
Escribe el nombre de estas figuras



WWW.ORIENTACIONANDUJAR.ES

problema6

Calculamos el perímetro (es la suma de todos los lados)



Problema8

Empiezo a hacer los deberes a las 16:10 de la tarde.
Tardo 15 min en entrar al aula virtual, 15 min en hacer la ~~fa~~da, 15 min en merendar y 5 min en enviar el vídeo.






¿A qué hora termino? A las _____: _____

Problema9

Ordena los siguientes precios de mayor a menor

3,55 -2 , 9 9 - 12,05 - 1 , 2 3 - 3, 35

Problema10

	EURLOGDESAMI.ORG
	EURLOGDESAMI.ORG
	EURLOGDESAMI.ORG
	EURLOGDESAMI.ORG
	EURLOGDESAMI.ORG

Problema11

Cuando ando voy a 4 kilómetros a la hora

De mi casa al colegio hay 36km ¿ Cuántas horas tardaré andando?

He andado _____ horas

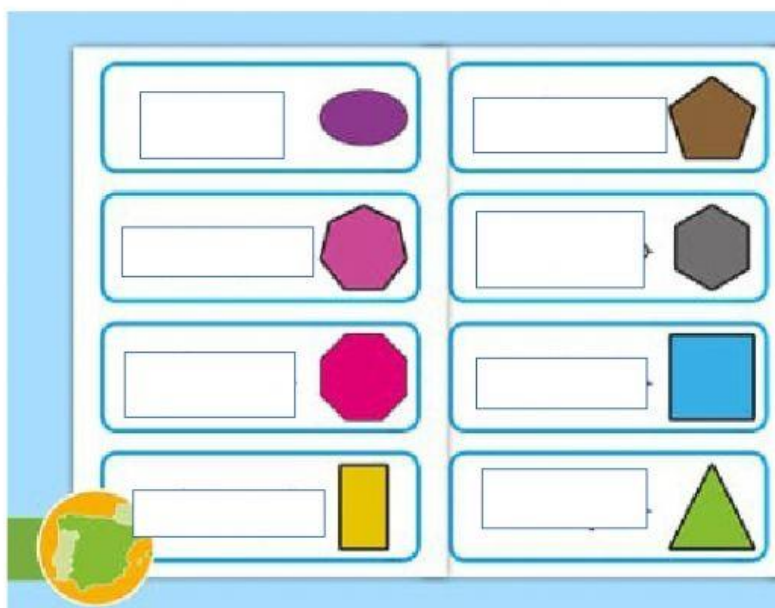
Problema13

Mis siete amigos y yo nos vamos al bosque a recoger setas. En total recogimos 1216. Si luego nos las queremos repartir en partes iguales ¿Cuántas setas tocaremos cada uno ?

Tocaremos a _____ setas

Problema14

Escribe el nombre de los siguientes polígonos



Problema15

Ordena los siguientes números de menor a mayor

235 - 532 - 253 - 203 - 301

Problema16

Calculala mitad y el doble

	mitad	doble
4,4		
4,6		
12,6		
13,8		

Problema17

Salgo de casa a las 18:25 de la tarde. Juego en el parque ~~durante~~ 2h y 25min.... Doy un paseo durante 20min
¿a qué hora vuelvo a casa?

Vuelvo a las ____:____