



Profesora: Sara Alamos S

Prueba de Historia

NOTA:

Nombre: _____ Curso: 3ero Básico.
Fecha: 10 / 05/ 2021 Puntaje Ideal: 33 /Puntaje Real: _____

Instrucciones:

- Lea atentamente todas las indicaciones.
- Responda solamente lo que se le pregunta y en el lugar destinado para ello.
- Coloca la alternativa correcta en cada uno de los cuadrados que corresponde.

Objetivos:

- I.- Distinguir los continentes y océanos que conforman el planeta Tierra
- Ubicar y reconocer líneas imaginarias del planeta Tierra

1.- Observa el siguiente globo terráqueo y traslada las etiquetas donde corresponda (9 puntos).

Círculo Polar
Ártico

Círculo Polar
Antártico

Eje Terrestre

Meridiano de
Greenwich

Línea del
Ecuador

Trópico de
Cáncer

Trópico de
Capricornio

Polo Norte

Polo sur



2.- Traslada los océanos y Continentes en el planisferio según corresponda (11 puntos).

Atlántico

Pacífico

Indico

G. Ártico

Pacífico

América

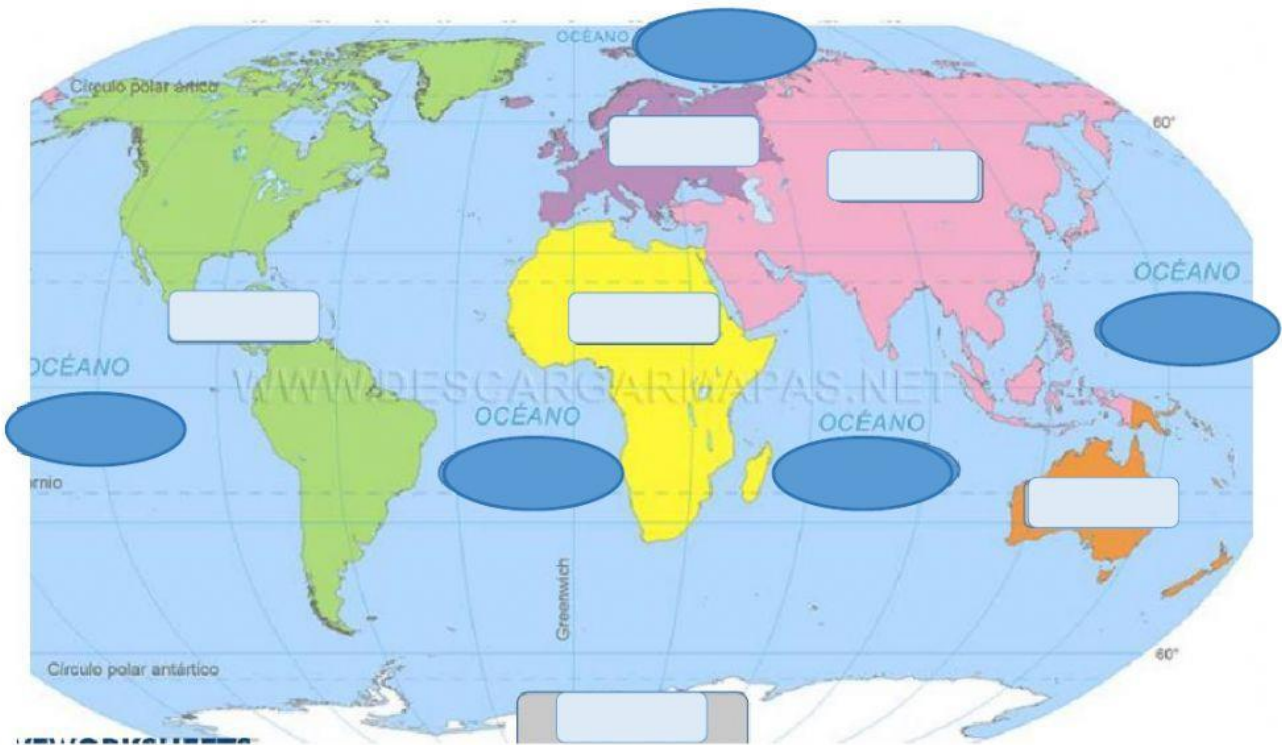
África

Europa

Asia

Oceanía

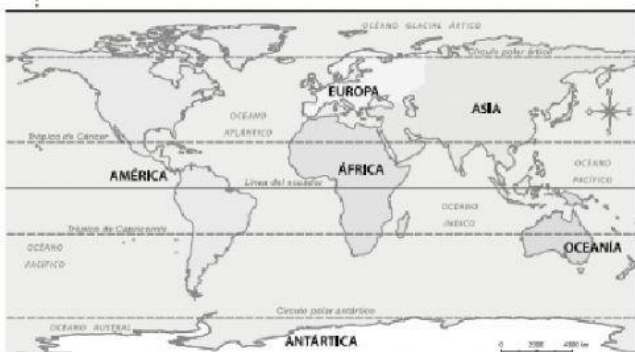
Antártida



3.-Completa según corresponda (10 puntos)

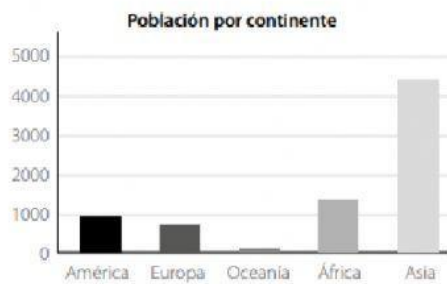
Recurso 2 Planisferio

El siguiente planisferio muestra los océanos y continentes de la Tierra.



- a. ¡Hola! Mi nombre es Luciano y vivo en Chile, que está en el continente llamado _____. Este es el segundo continente más grande. Al oeste se encuentra el océano _____ y al este el océano _____. (6 puntos)
- b. ¡Bonjour! Mi nombre es Amelie y vivo en Francia, que está en Europa. Es un continente pequeño, respecto de los demás, pero tiene muchos países. Limita al oeste con el océano _____ y al norte con el océano _____. (4 puntos)

4.- De acuerdo con lo que puedes observar en el gráfico de barras, completa el relato mencionando **más o menos** población. (3 puntos).



a. Asia tiene _____ que América. Pero, América tiene _____ que Oceanía. Además, podemos decir que Europa tiene _____ que África, pero Europa tiene _____ que Oceanía.

b. ¿Por qué la Antártica no aparece en el gráfico de población por continentes? (1 pts.)

¡Mucho éxito!

