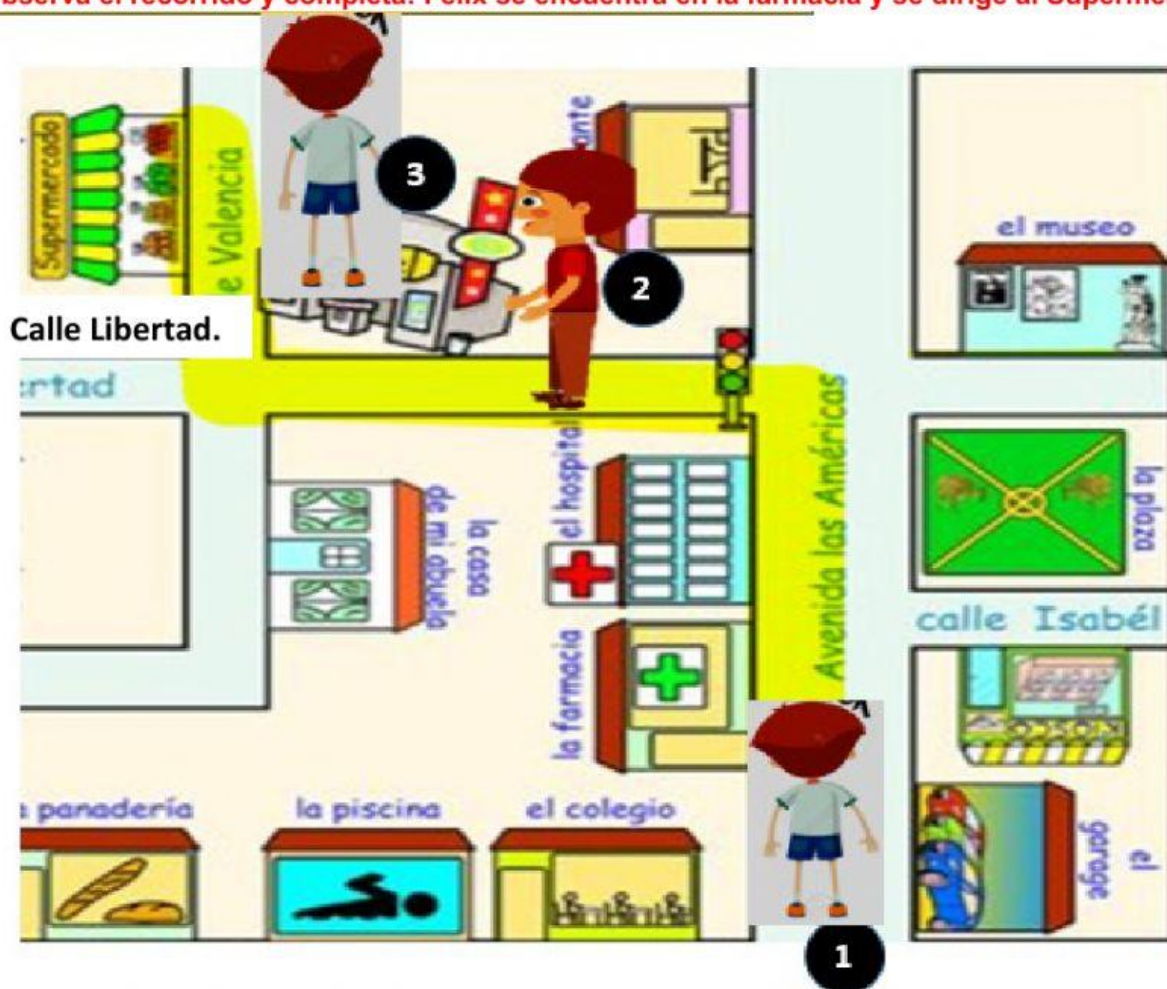


Código	R-12-02-06
Versión	05
Fecha	31-01-21
Página	1 de 3

Demuestro lo aprendido 18: Desplazamientos

Competencia:	Resuelve problemas de cantidad
Capacidad/Desempeño:	1. Modela objetos con formas geométricas y sus transformaciones. -Describe desplazamientos en planos usando datos de ubicación exactos.

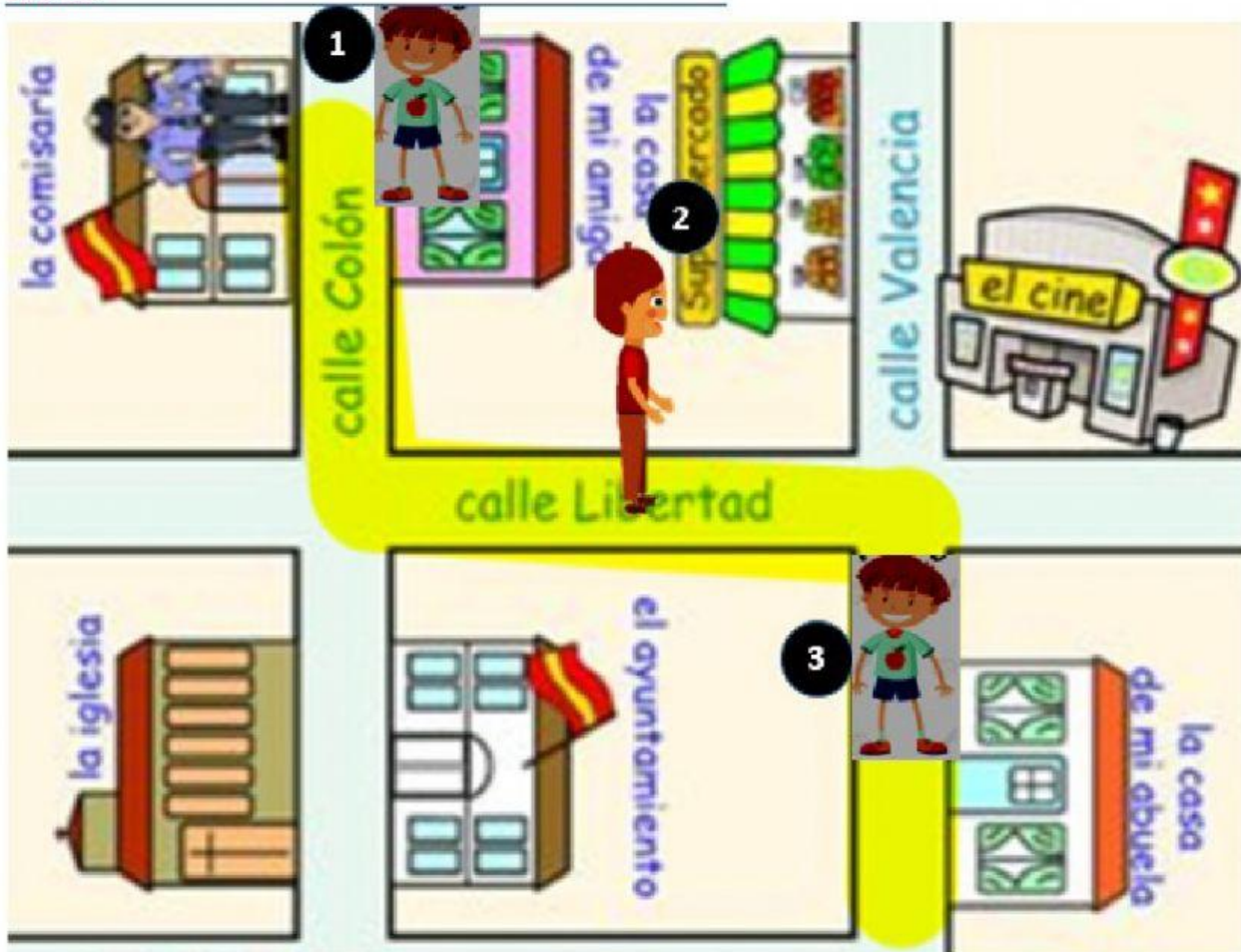
Observa el recorrido y completa: Félix se encuentra en la farmacia y se dirige al Supermercado.



1. Félix sale de la farmacia por la Av. _____. Al llegar al semáforo gira a la _____.
2. Continúa su camino por la calle _____ y al llegar al cruce con la calle _____ gira a la _____.
3. Finalmente sigue por la calle Valencia, el supermercado está a su _____.

Código	R-12-02-06
Versión	05
Fecha	31-01-21
Página	2 de 3

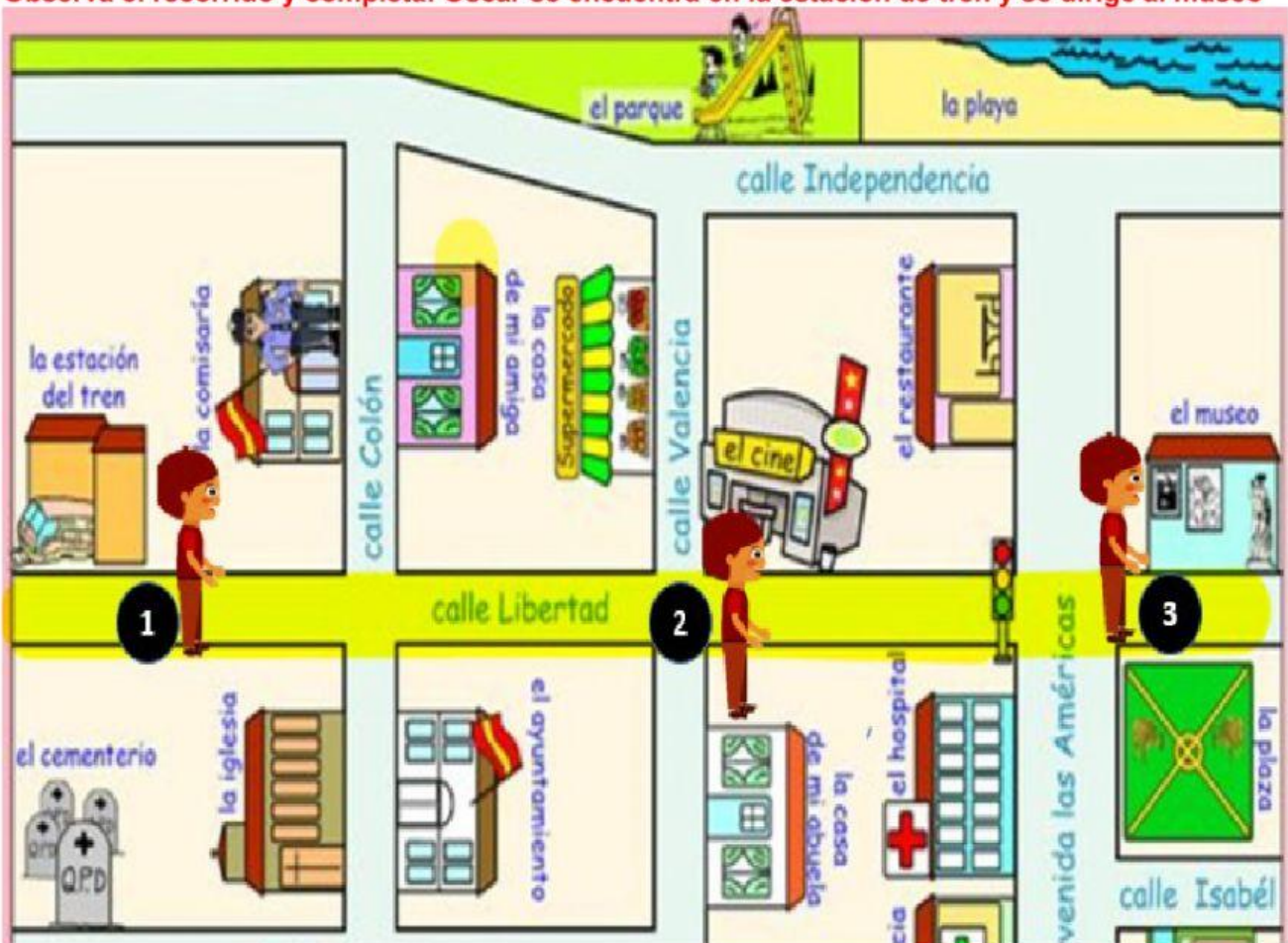
Observa el recorrido y completa: Marco se encuentra en la comisaría y se dirige a la casa de su abuela.



1. Marco sale de la comisaría por la calle _____. Al llegar al cruce con la calle _____ gira a la _____.
2. Continúa su camino por la calle _____ y al llegar al cruce con la calle _____ gira a la _____.
3. Finalmente sigue por la calle Valencia, la casa de su abuela está a su _____.

Código	R-12-02-06
Versión	05
Fecha	31-01-21
Página	3 de 3

Observa el recorrido y completa: Óscar se encuentra en la estación de tren y se dirige al museo



1. Óscar sale de la comisaría por la calle _____. Al llegar a la esquina cruza la calle _____.
2. Continúa su camino por la calle Libertad, el cine se encuentra a su _____. Al llegar al semáforo cruza la calle _____.
3. Finalmente sigue por la calle Libertad, el museo está a su _____.