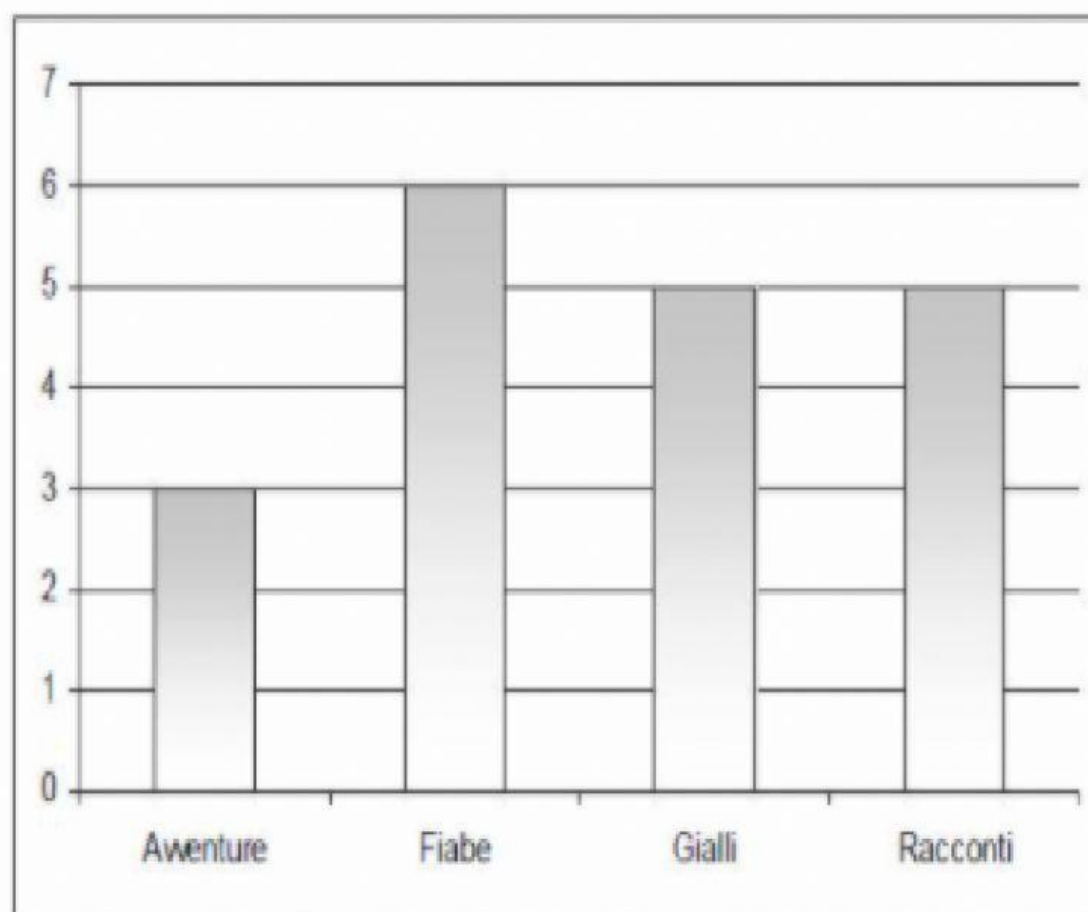


Gli alunni della 2 D la scorsa settimana hanno preso in prestito dei libri dalla biblioteca.

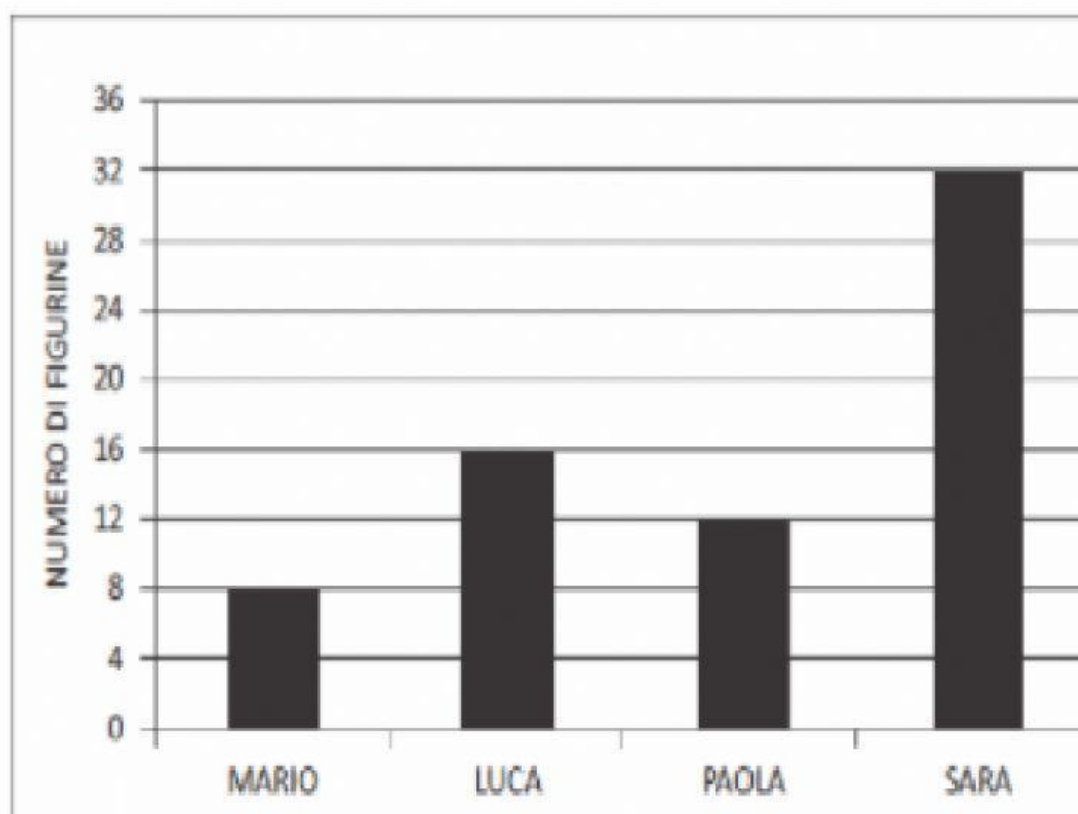
Il grafico mostra che tipo di libri hanno scelto gli alunni.



Qual è il tipo di libri preferito dai bambini?

- ☐ A. Avventure
- ☐ B. Fiabe
- ☐ C. Racconti

D3. Questo grafico rappresenta il numero di figurine che Mario, Luca, Paola e Sara hanno in tasca.



Osserva il grafico e rispondi.

a. Luca ha il doppio delle figurine di Mario?

☐ Sì ☐ No ☐ Non si può sapere

b. Luca ha solo una figurina in più di Paola?

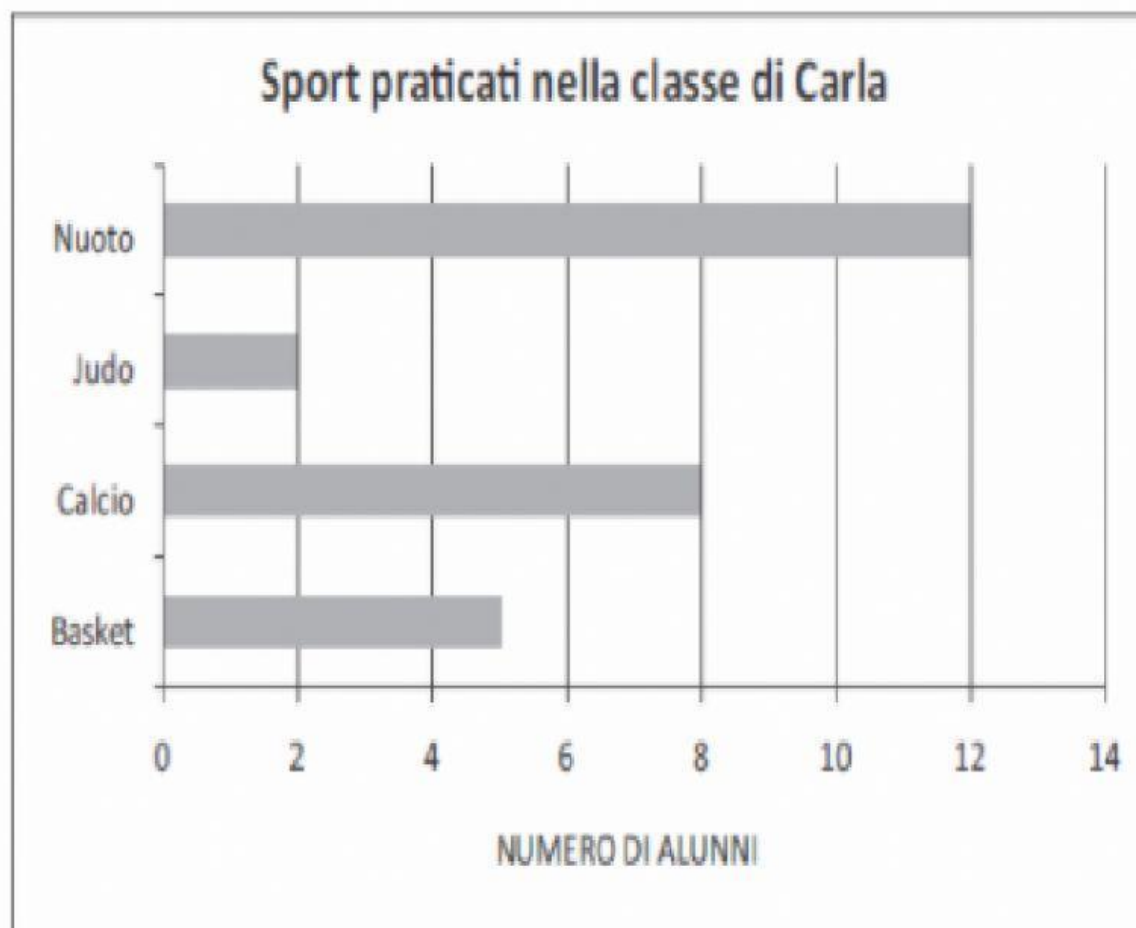
☐ Sì ☐ No ☐ Non si può sapere

c. Sara ha più anni di Luca?

☐ Sì ☐ No ☐ Non si può sapere

Nella classe di Carla gli alunni hanno fatto un'indagine sugli sport praticati.

Hanno costruito il seguente grafico.



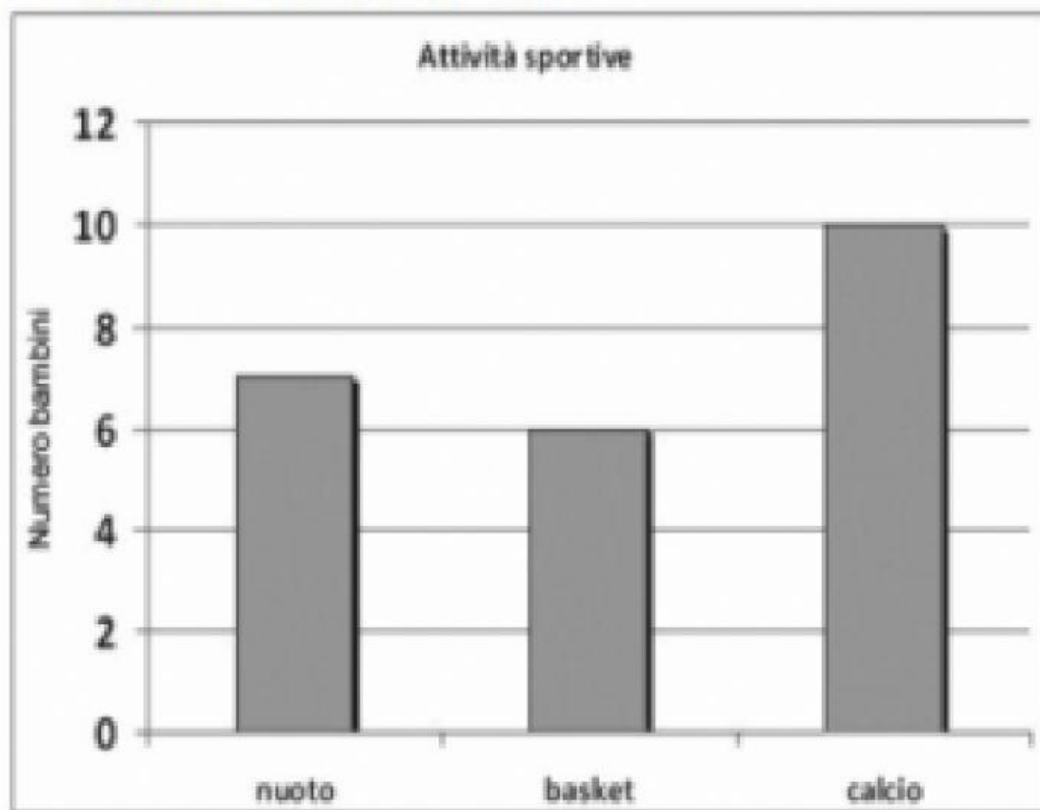
La tabella qui sotto riporta i dati del grafico ma non è completa.

Scrivi tu al posto dei puntini quello che manca.

Sport	Calcio
Numero alunni	5	2	12

D5. Tutti i bambini della classe 2B hanno scelto lo sport da praticare a scuola.

Il grafico rappresenta le loro scelte.



a. Quale sport è praticato solo da 6 bambini?

Risposta:

b. Quanti bambini praticano il nuoto?

Risposta: bambini

c. Quanti sono i bambini della 2B?

A. ☐ 10

B. ☐ 22

C. ☐ 23

D13. La maestra ha preparato un cartellone e ha chiesto a ogni alunno della sua classe di scrivere il proprio nome al posto giusto. Alcuni alunni hanno scritto il proprio nome e il cartellone si presenta così:

	Viene a scuola a piedi	Viene a scuola in auto	Viene a scuola in pulmino
Maschi	Mario	Luigi, Piero	
Femmine	Zara		Roberta

- Paolo viene a scuola in pulmino. Scrivi il suo nome al posto giusto.
- Carlo viene a scuola assieme a Zara. Scrivi il suo nome al posto giusto.
- Rossella viene a scuola con Roberta. Scrivi il suo nome al posto giusto.

La tabella mostra gli alimenti che un gruppo di bambini consuma abitualmente a colazione.

ALIMENTI					
	Latte	Tè	Biscotti	Pane	Marmellata
ANDREA	X		X		
DANIELE		X	X	X	
EMILIO			X	X	X
GIANNI	X			X	
IVAN		X		X	X
MARINO	X		X		X
NICOLA		X		X	X

Osserva la tabella e rispondi.

a. Che cosa beve Nicola?

Risposta:

b. Quali sono i bambini che bevono il latte? Scrivi i loro nomi.

Risposta:

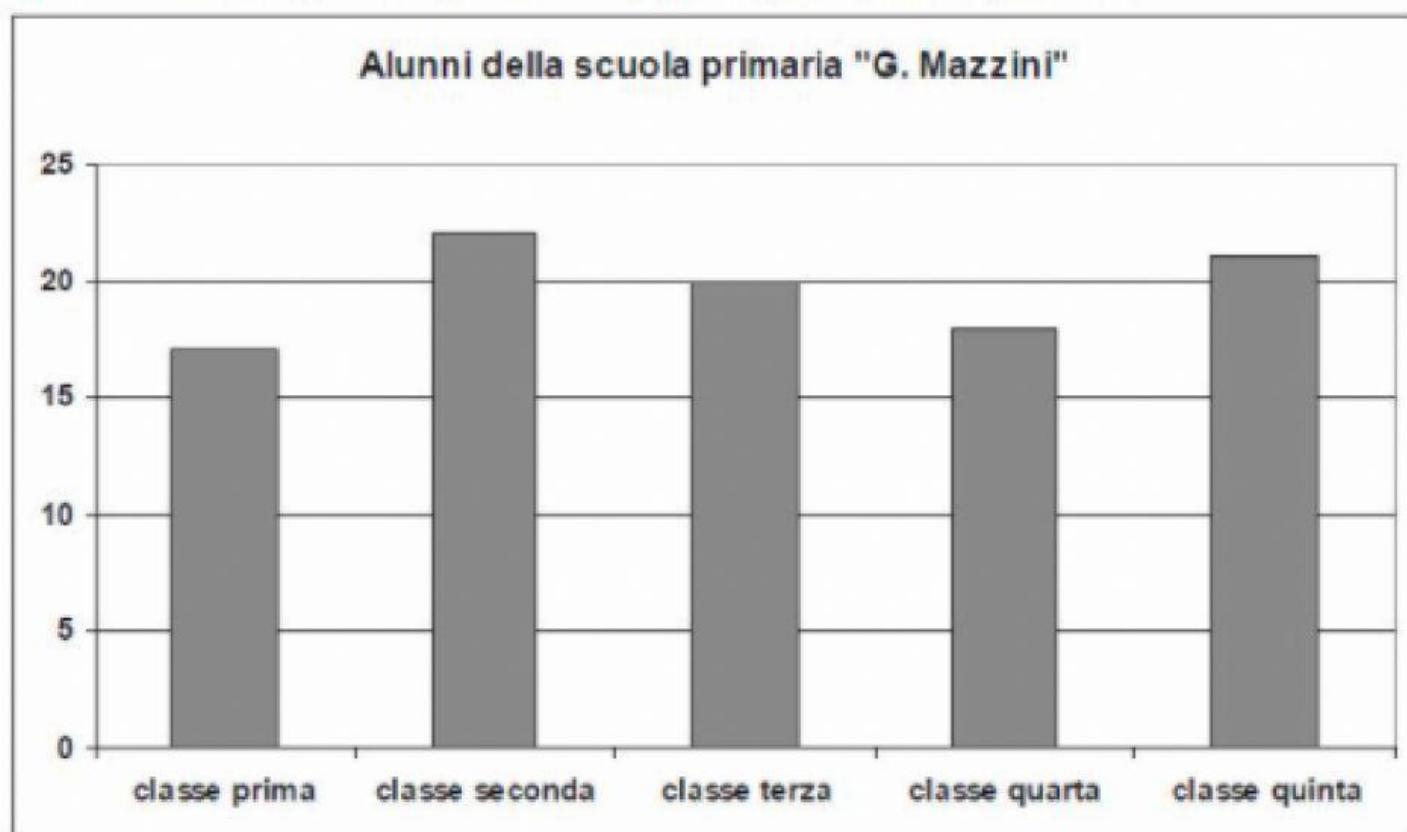
c. Quale alimento viene consumato dal maggior numero di bambini?

Risposta:

d. Uno dei bambini mangia pane e beve latte. Chi è?

Risposta:

D1. Osserva questo grafico e poi rispondi alle domande.



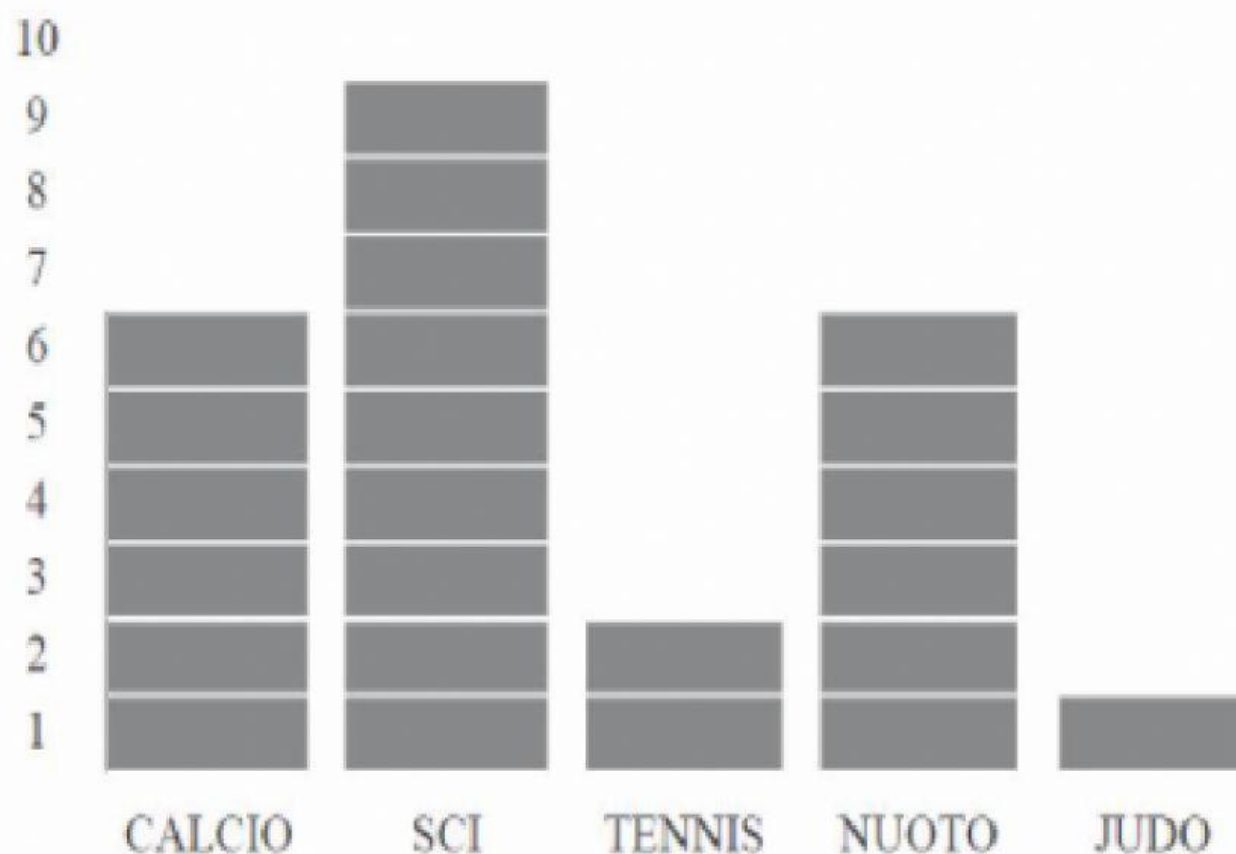
a. Quanti alunni ci sono nella classe terza?


Risposta:

b. Quale classe ha il maggior numero di alunni?

Risposta:

D16. Nella classe di Michele la maestra ha chiesto qual è lo sport preferito; ogni alunno ha scelto un solo sport. Alla fine hanno costruito questo grafico:



Che cosa rappresenta ogni rettangolino grigio ()?

- ☐ A. La scelta di un bambino
- ☐ B. Un gruppo di bambini
- ☐ C. Uno sport

Questa tabella rappresenta le assenze fatte in una settimana di scuola da quattro bambini.

	Anna	Sara	Marco	Dario
Lunedì	X			X
Martedì	X			
Mercoledì	X	X		
Giovedì	X			X
Venerdì	X	X	X	

a. Chi ha fatto meno assenze durante la settimana?

- ☐ A. Sara
- ☐ B. Marco
- ☐ C. Dario

b. In quale giorno ci sono state più assenze?

- ☐ A. Lunedì
- ☐ B. Giovedì
- ☐ C. Venerdì