

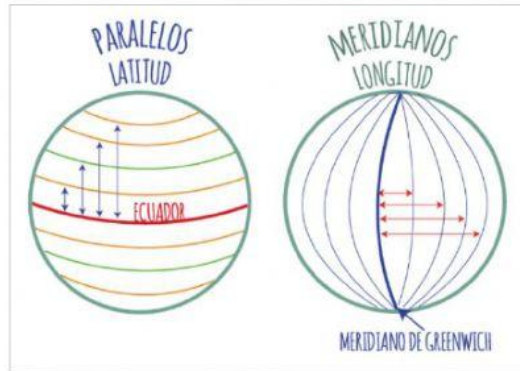
COORDENADAS GEOGRÁFICAS

PARA RECORDAR

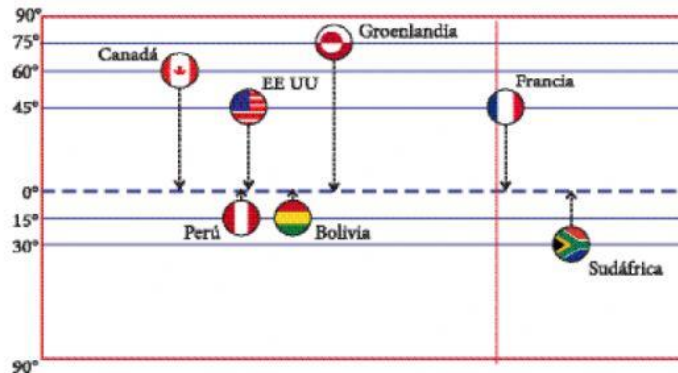
LATITUD: Distancia de un punto al Ecuador. Puede ser Norte o Sur.

LONGITUD: Distancia de un punto al Meridiano de Greenwich. Puede ser Este u Oeste.

La latitud y la longitud se miden en grados, minutos y segundos

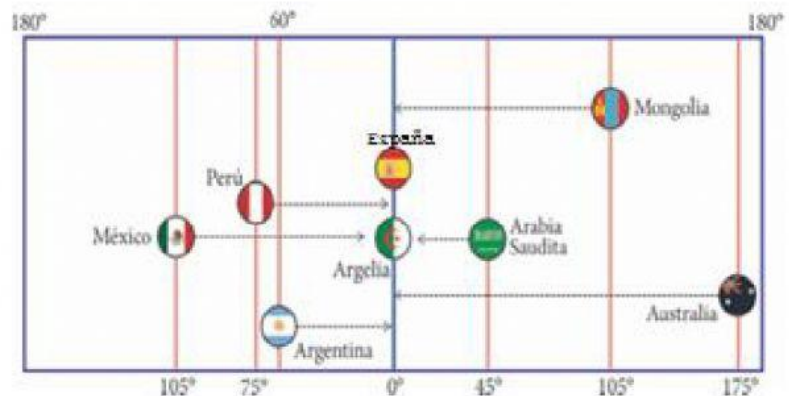


1. Escribí la latitud señalada en estos países completando el cuadro según el ejemplo.



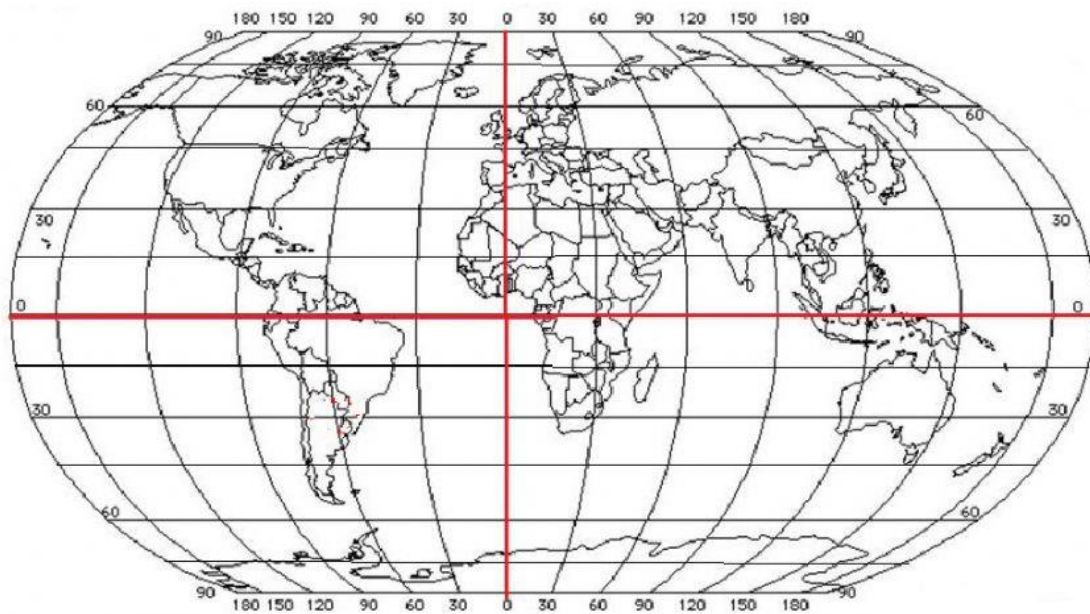
PAÍS	GRADOS	ORIENTACIÓN
Canadá	60	norte
Perú		
EEUU		
Bolivia		
Groenlandia		
Francia		
Sudáfrica		

2. Escribí la longitud señalada en estos países completando el cuadro según el ejemplo.



PAÍS	GRADOS	ORIENTACIÓN
México	105	oeste
Australia		
Argentina		
Argelia		
Mongolia		
Arabia Saudita		
España		
Perú		

c. Ubicá los siguientes puntos desplazándolos sobre el planisferio y completá, junto a la coordenada el nombre del continente o del océano en el que se encuentran. Para poner los nombres de los océanos, colocá sólo una palabra (por ej: Ártico)



A. 45° latitud N – 90° longitud O:

B. 75° latitud S – 30° longitud O:

C. 30° latitud S – 150° longitud E:

D. 0° latitud – 30° longitud O:

E. 75° latitud N – 30° longitud E:

F. 30° latitud N – 0° longitud:

G. 30° latitud N – 150° longitud O:

H. 45° latitud S – 90° longitud E: