



Tema: décimos, centésimos y milésimos.

NOMBRE: _____

FECHA: _____

1. Escribe las siguientes fracciones como números decimales y en letras.

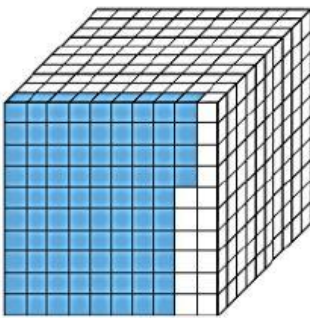
$\frac{247}{1\,000}$ ▶ 0,247 doscientos cuarenta y siete milésimos

$\frac{6}{1\,000}$ ▶ _____

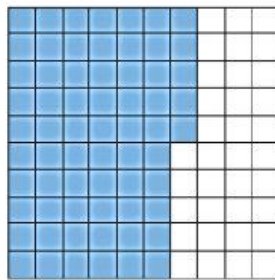
$\frac{58}{100}$ ▶ _____

$\frac{19}{100}$ ▶ _____

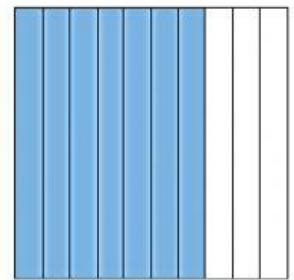
2. Escribe como decimal y como fracción el número que se encuentra representado en cada figura.



_____ = _____



_____ = _____



_____ = _____



4. Une correctamente el número expresado en letras con su representación decimal.

- a. Cuarenta y ocho milésimos 0,48
 0,048
- b. Cinco décimos 0,5
 0,05
- c. Treinta y dos centésimos 0,32
 0,032
- d. Ocho centésimos 0,8
 0,08