

MATEMÁTICAS

problema 1

Si tengo 44 años

¿ En qué año nací? _____

Si mi abuelo tiene 80 años

¿en qué año nació? _____

Problema 2

Voy al mercado con 100€... me gasto 35€ en carne 28€ en pescado y 12€ en fruta

¿cuántos euros me sobran?

Me sobran _____ euros

Problema 3

Hoy es miércoles.... Mi madre compró 6 filetes...¿ Puedo comerme un filete cada día hasta el próximo lunes?

¿Por qué?


Problema 4

Tengo un sobre con 20 cromos,dos sobres con 10 cromos cada uno y cinco sobres con 2 cromos cada uno

¿cuántos cromos tengo en total?

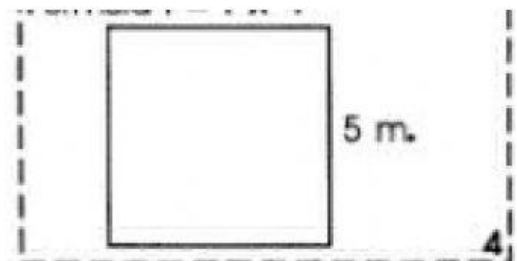
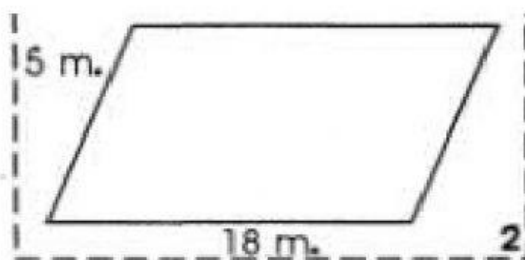
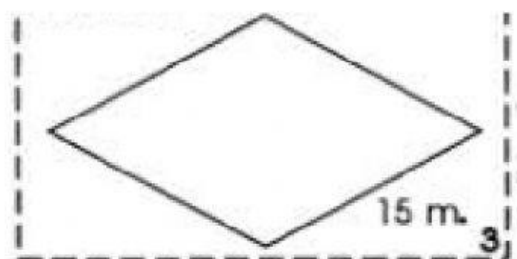
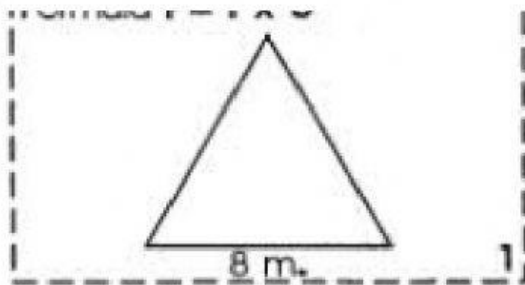
Problema 5

Escribe el nombre de estas figuras



problema 6

Calculamos el perímetro (es la suma de todos los lados)



problema 7

¿ Qué unidades usarías?

FRASES	UNIDADES DE MEDIDA
Comprar naranjas	
Tu edad	
Medir la clase	
Pagar la compra	

Problema 8

Empiezo a hacer los deberes a las 4:30 de la tarde.
Tardo 5 min en entrar al aula virtual, 15 min en hacer la ficha, 15min en merendar y 10 min en enviar el vídeo .

¿A qué hora termino ?A las_____:_____

Problema 9

Ordena los siguientes precios de menor a mayor

3,55 - 2, 99 - 12,05 - 1,23 - 3, 35

Problema 10



Tengo : _____ euros

Problema 11

Cuando ando voy a 3 kilómetros a la hora

De mi casa al colegio hay 9km ¿ Cuántas horas tardaré andando?

He andado _____ horas

Problema 12

Elige la medida correcta

- Distancia entre dos pueblos _____
- Medida de un lapicero. _____
- Medida de una pulga _____

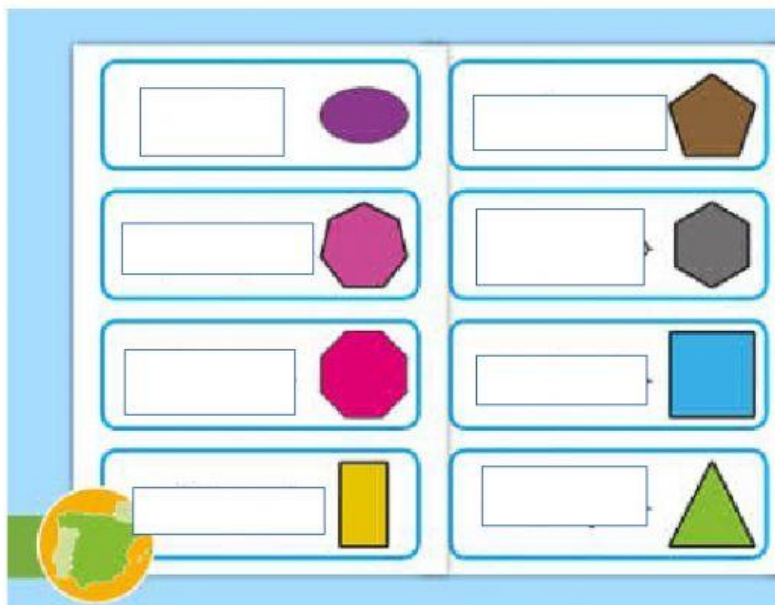
Problema 13

Mis tres amigos y yo nos vamos al bosque a recoger setas. En total recogimos 216. Si luego nos las queremos repartir en partes iguales. ¿ Cuántas setas tocaremos cada uno cada uno?

Tocaremos a _____ setas

Problema 14

Escribe el nombre de los siguientes polígonos



Problema 15

Ordena los siguientes números de mayor a menos

235 - 532 - 253 - 203 - 301

Problema 16

Calcula la mitad y el doble

	mitad	doble
2,4		
4,2		
2,6		
3,8		

Problema 17

Salgo de casa a las 6: 00 de la tarde. Juego en el parque durante 1h y 15 min doy un paseo durante 20 min ¿a qué hora vuelvo a casa?

Vuelvo a las ____ : ____