



PEMERINTAH KABUPATEN KEBUMEN  
DINAS PENDIDIKAN  
SMP NEGERI 1 PREMBUN



Jl. Slamet Riyadi No.11 Prembun-Kebumen, Telp. 0287-662272 Pos.54394  
Web. [smpn1-prembunsch.id](http://smpn1-prembunsch.id) e-mail. [Smpn\\_1prembun@yahoo.com](mailto:Smpn_1prembun@yahoo.com)

**LEMBAR KERJA PESERTA DIDIK (LKPD)**

PELAJARAN : Bimbingan TIK  
KELAS : IX  
SEMESTER : GANJIL

SK : Menggunakan Internet Untuk Memperoleh Informasi  
KD : Mengenal Internet

Indikator :

1. Siswa akan mengenal apa itu internet
2. Siswa akan mengetahui bagaimana terhubung dengan internet
3. Siswa akan mengetahui dampak yang ditimbulkan adanya internet

Nama :

Kelas :

Perhatikan video berikut !








**A. Pilihlah jawaban yang paling tepat!**

1. Internet pertama kali digunakan dan dikembangkan oleh.....
  - A. Departemen Pertahanan Amerika
  - B. Departemen Komunikasi Amerika
  - C. Departemen Pertahanan Inggris
  - D. Departemen Komunikasi Inggris
2. Program penelitian yang dilakukan untuk menghubungkan sejumlah computer sehingga membentuk suatu jaringan organik yang dilakukan departemen tersebut dikenal dengan nama.....
  - A. Darpa
  - b. Arpanet
  - c. EUNET
  - d. Usenet
3. Fasilitas untuk berkirim pesan melalui alamat elektronik di internet, dimana pengguna memiliki kotak surat elektronik yang disimpan dalam mailserver adalah.....
  - A. E-mail
  - b. Ftp
  - c. Voip
  - d. Chat

4. Teknologi yang digunakan untuk mengakses internet dengan bantuan satelit, yaitu....
  - a. GPRS
  - b. VSAT
  - c. HSPA
  - d. WAP
5. Modem Dial-up yang terpasang pada motherboard secara langsung, dikenal dengan istilah modem ....
  - a. DSL
  - b. Internal
  - c. Eksternal
  - d. GPRS

**B. Letakan nama perangkat pada gambar yang sesuai!**

1.		<input type="text"/>	<input type="text" value="SWITCH"/>
2.		<input type="text"/>	<input type="text" value="ACCESS POINT"/>
3.		<input type="text"/>	<input type="text" value="CABLE"/>
4.		<input type="text"/>	<input type="text" value="LAN CARD"/>
5.		<input type="text"/>	<input type="text" value="BRIDGE"/>

**C. Tariklah garis pada kotak yang memuat jawaban yang benar!**

<input type="text" value="HUB"/>	●	●	<input type="text" value="Merubah sinyal analog menjadi digital"/>
<input type="text" value="MODEM"/>	●	●	<input type="text" value="Alat untuk membagi sinyal data dari server ke client"/>
<input type="text" value="REPEATER"/>	●	●	<input type="text" value="Kabel jaringan untuk menghubungkan komputer"/>
<input type="text" value="KONEKTOR"/>	●	●	<input type="text" value="Mengatur aliran arus data pada suatu jaringan"/>
<input type="text" value="ROUTER"/>	●	●	<input type="text" value="Memperkuat sinyal di jaringan internet"/>