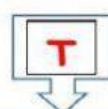
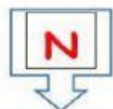


Observa los conjuntos y luego ubica el signo € ¤ según corresponda.



\_\_\_\_\_ Al conjunto T



\_\_\_\_\_ Al conjunto T



\_\_\_\_\_ Al conjunto N




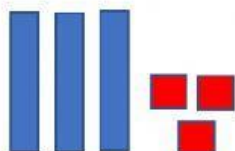
\_\_\_\_\_ Al conjunto T



\_\_\_\_\_ Al conjunto N



Relaciona el grafico con el número que le corresponde



36

33

41

Coloca el numero anterior y el posterior

	<b>46</b>	
	<b>32</b>	
	<b>24</b>	
	<b>18</b>	

<b>31</b>	<b>25</b>
<b>19</b>	<b>45</b>
<b>47</b>	<b>33</b>
<b>23</b>	<b>17</b>

Coloca el signo mayor menor e igual

<b>46</b>		<b>36</b>
<b>20</b>		<b>20</b>
<b>21</b>		<b>32</b>
<b>38</b>		<b>18</b>

<b>&gt;</b>	<b>=</b>
<b>&gt;</b>	<b>&lt;</b>

Ordena en forma ascendente

<b>25</b>	<b>30</b>	<b>27</b>	<b>24</b>	<b>20</b>
-----------	-----------	-----------	-----------	-----------

---

Ordena en forma descendente

<b>40</b>	<b>38</b>	<b>31</b>	<b>37</b>	<b>30</b>
-----------	-----------	-----------	-----------	-----------