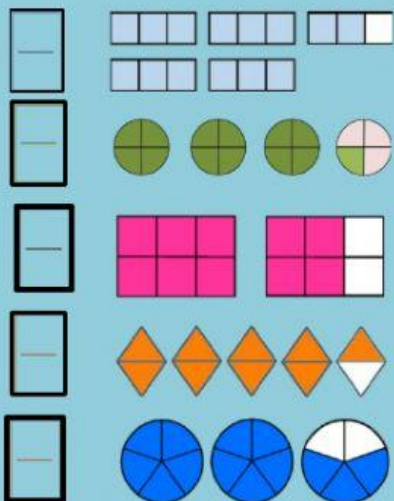


GUIA SINTESISFRACCIONES Y NÚMEROS MIXTOS

Nombre:.....Fecha:..../Mayo

1. Escribe a la izquierda la fracción representada en cada dibujo y une con flechas al número mixto que corresponda.



$1\frac{4}{6}$

$4\frac{1}{2}$

$2\frac{3}{5}$

$3\frac{1}{4}$

$4\frac{2}{3}$

2. Escribe cada fracción en forma de número mixto.

$\frac{18}{5} = \underline{\hspace{2cm}}$

$\frac{7}{4} = \underline{\hspace{2cm}}$

$\frac{17}{3} = \underline{\hspace{2cm}}$

3. Escribe cada número mixto en forma de fracción.

$3\frac{5}{7} = \underline{\hspace{2cm}}$

$2\frac{1}{5} = \underline{\hspace{2cm}}$

$6\frac{1}{2} = \underline{\hspace{2cm}}$

3.-FRACCIONES PROPIAS EN LA RECTA

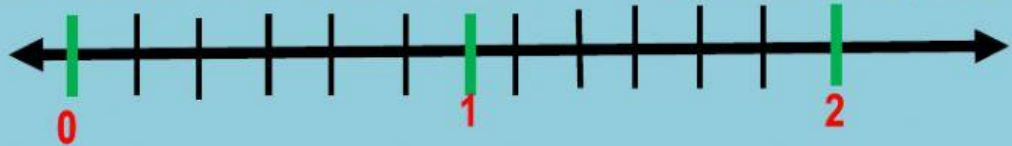
¿Dónde se ubica cada estrella?Escribe la fracción



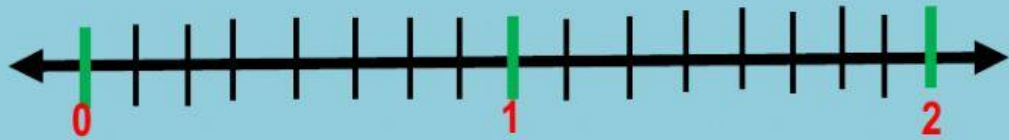
4.-Fracciones IMPROPIAS en la recta

Observa y arrastra ubicando las fracciones IMPROPIAS donde corresponda

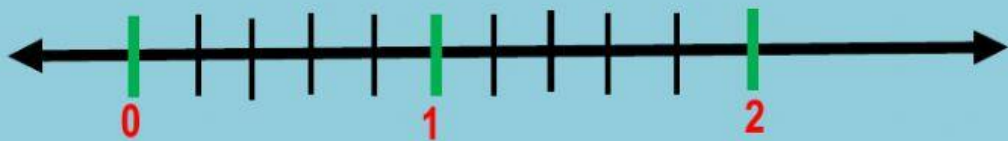
$$\frac{9}{5}$$



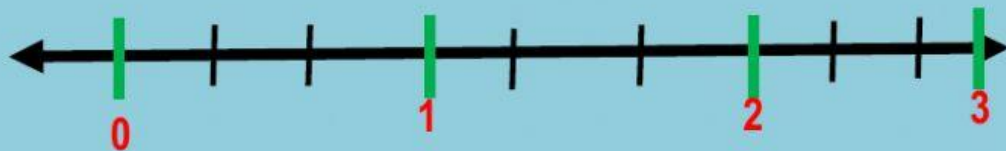
$$\frac{11}{4}$$



$$\frac{8}{3}$$



$$\frac{14}{8}$$



$$\frac{10}{6}$$



MUY BIEN ...ENVIA TU GUIA
A
natales_miriam@hotmail.com

