

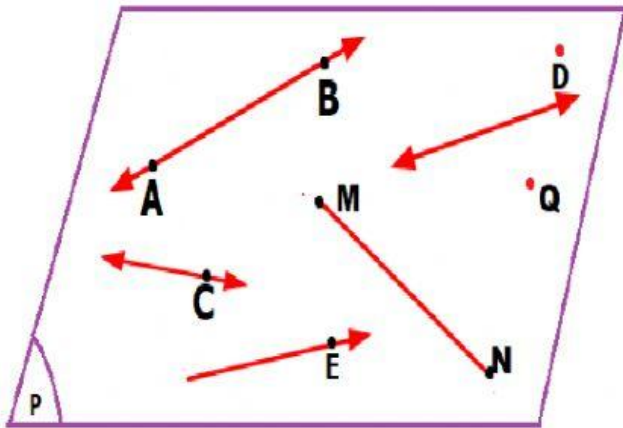


EXAMEN BIMESTRAL DE GEOMETRÍA
INSTITUCIÓN EDUCATIVA PRIVADA
"SEMILLITAS DE VIDA"



PROFESORA: AILY MELISSA GUTARRA BONIFAZ

1. OBSERVA LA FIGURA Y COLOCA VERDADERO (V) O FALSO (F)



* El punto **Q** pertenece al plano **P**.

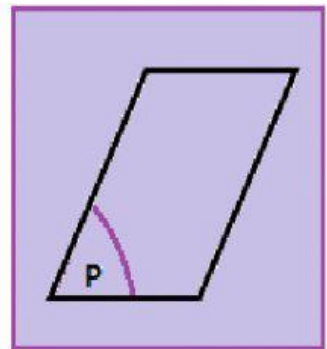
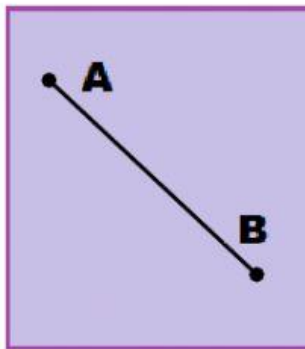
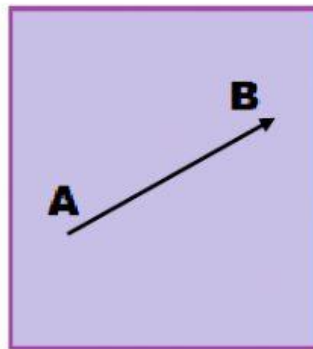
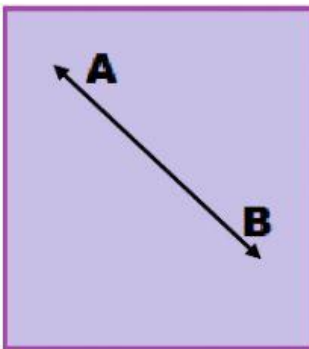
* El segmento **MN** pertenece al plano **P**.

* El rayo **AB** pertenece al plano **P**.

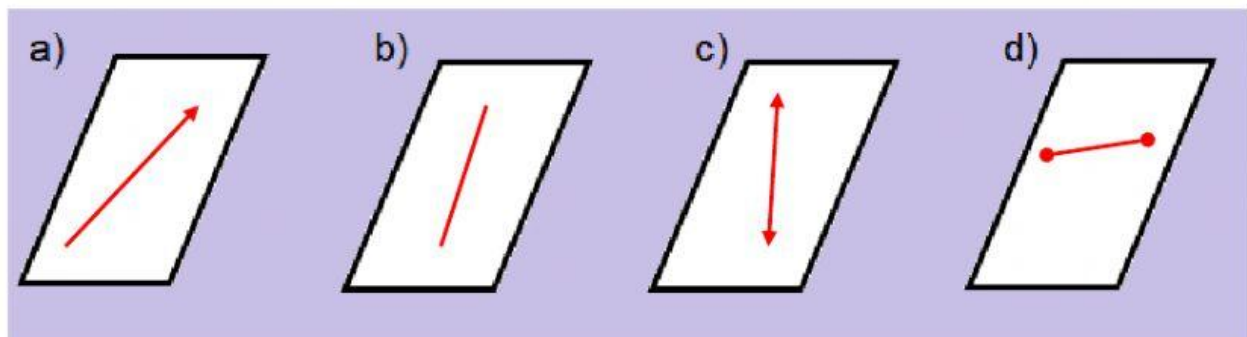
* La semi recta **D** pertenece al plano **P**.

* La semi recta **E** pertenece al plano **P**.

2. NOMBRA CADA UNA DE LAS SIGUIENTES FIGURAS (LETRA MAYÚSCULA)





3. ¿CUÁL DE LAS SIGUIENTES GRAFICAS REPRESENTA A UN RAYO? Pulsa tu respuesta

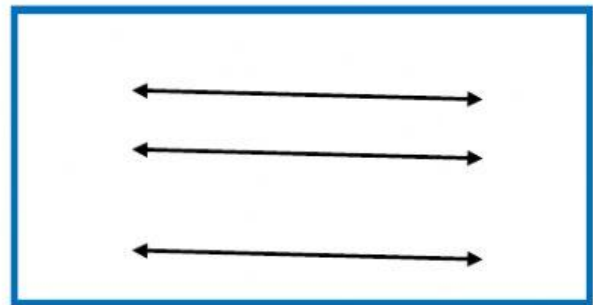
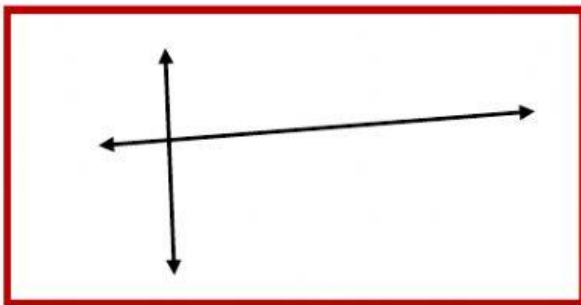
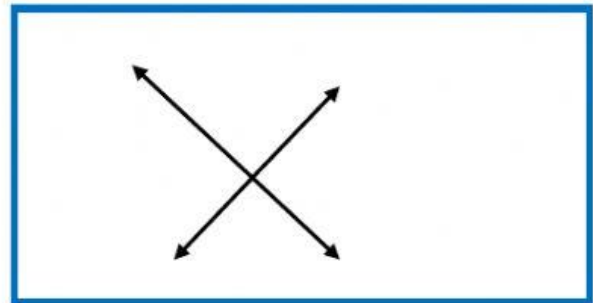
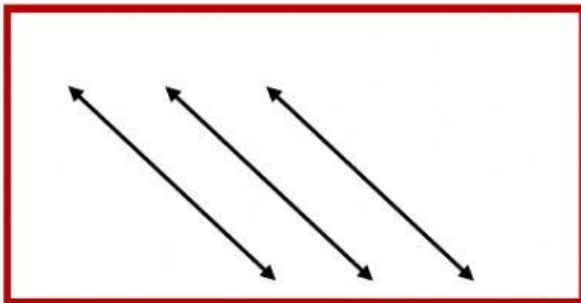


POFESORA: AILY MELISSA GUTARRA BONIFAZ

4. ESCRIBE CORRECTAMENTE LOS NOMBRES DE LAS SIGUIENTES REGLAS:



5. ESCRIBE PARALELA O PERPENDICULAR DE A CUERDO AL CASO:



POFESORA: AILY MELISSA GUTARRA BONIFAZ