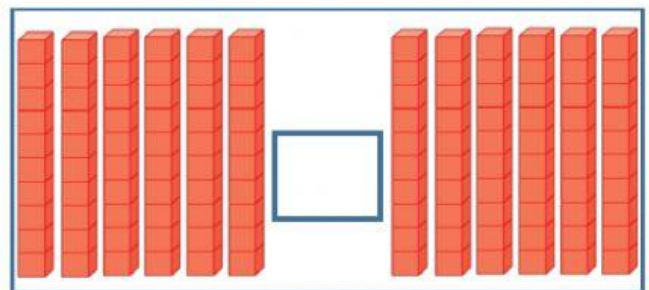
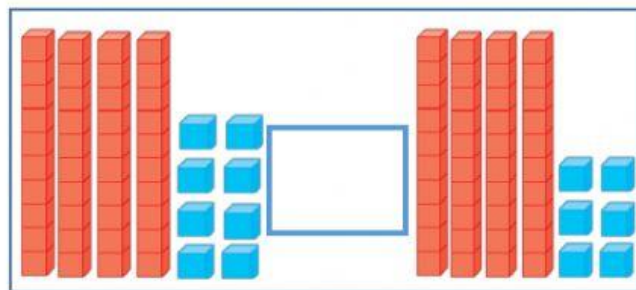
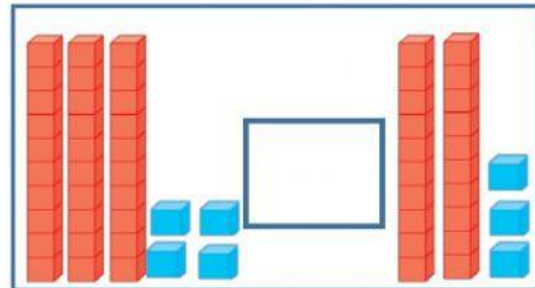
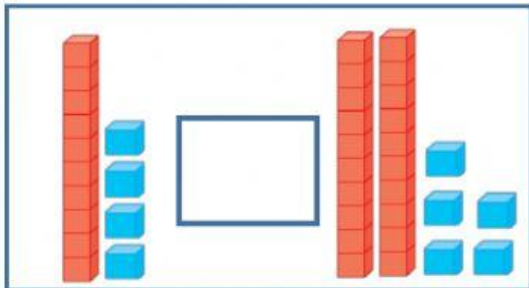


TEMA: Relación de orden.

Actividades sincrónicas:

1.- Selecciono el signo **mayor que**, **menor que** e **igual que** en cada uno de las representaciones gráficas:



2.- De los números dados, selecciono el número de la unidad mayor :

31	37	39	33	32
66	65	67	61	68
85	81	82	83	84

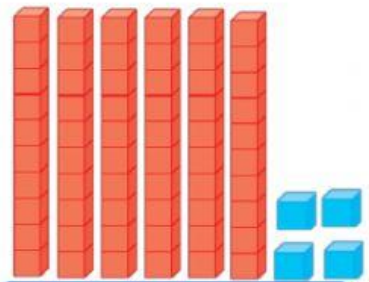
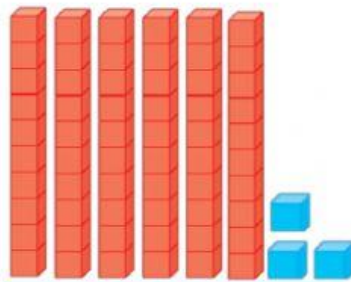
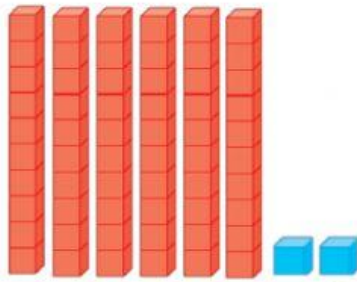
2.- De los números dados, selecciono el numero mayor :

31	21	81	71	41
53	25	68	77	44
31	28	41	63	91

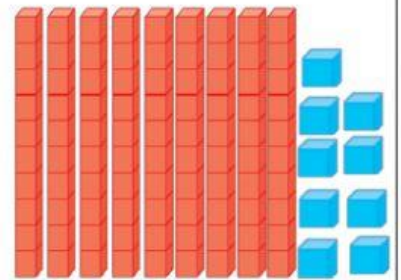
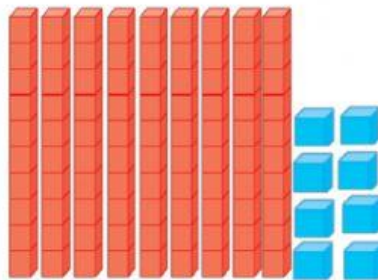

TEMA: Antecesor, sucesor e intermedio.

Actividades sincrónicas:



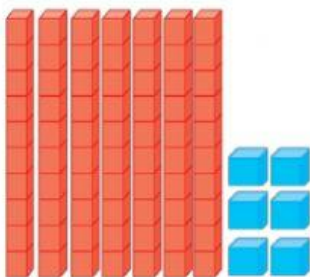
Escribe en el recuadro el número de cada representación gráfica y **selecciono** la cantidad antecesor.




Escribe en el recuadro el número de cada representación gráfica y **selecciono** la cantidad intermedio.




Escribo en el recuadro el número de cada representación gráfica y **selecciono** la cantidad sucesor.



Completo los números según la muestras:



29	30
81	82
31	32




16	
32	
53	




91	
81	
71	




37	
81	
33	




30	30
30	50
30	80




	47
	91
	64




	32
	45
	99




	37
	87
	57



69	71	72
54	55	56
39	40	41



	48	
	96	
	22	



	88	
	25	
	69	