



























































IDEOGRAMMA

- Il seguente ideogramma rappresenta la produzione di biciclette di una piccola fabbrica negli ultimi 9 anni.

2010	     
2011	    
2012	     
2013	      
2014	        
2015	      
2016	    
2017	      
2018	     

- Completa la tabella della produzione annuale osservando la legenda e poi rispondi alle domande.



= 20 bici



= 10 bici



= 5 bici

2010	2011	2012	2013	2014	2015	2016	2017	2018
.....

In quale anno la fabbrica ha prodotto più biciclette?

In quale anno la fabbrica ha prodotto meno biciclette?

La moda è