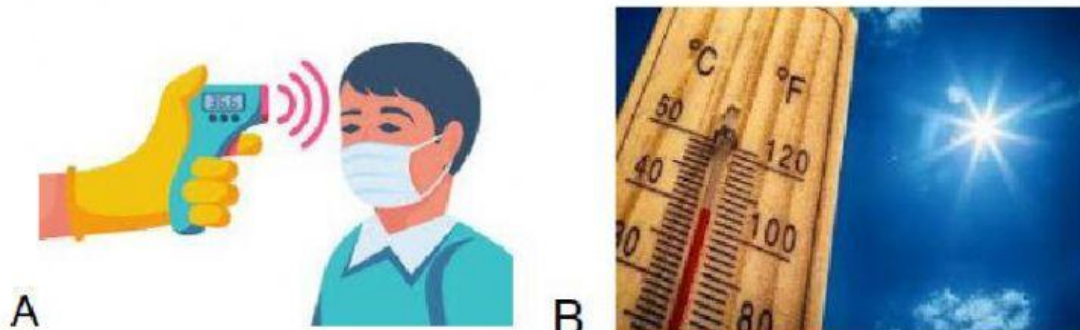


PONTE DO SABER – 8º Ano – Atividade 9 e 10

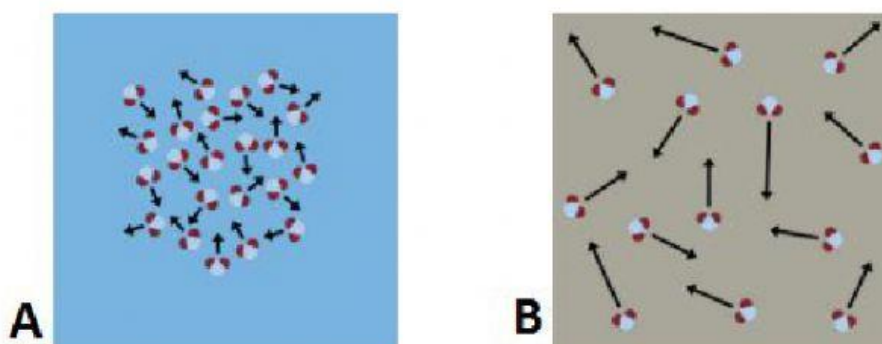
Prof. Rodrigo – Ciências

Nome: _____ Ano: _____

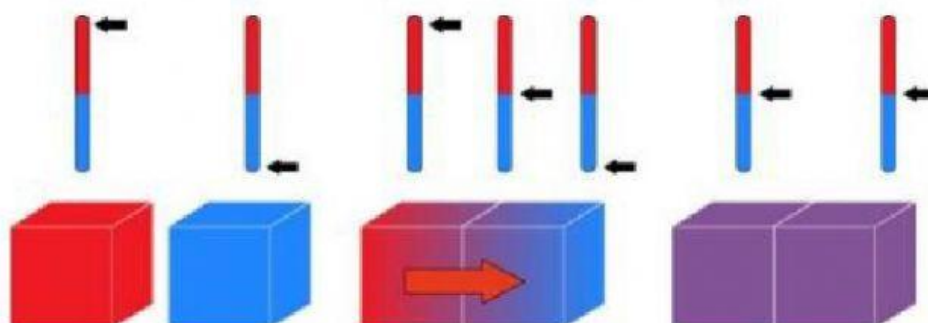
1) Observe as imagens e diga qual termômetro é de dilatação e qual é o de resistência.



2) Na imagem abaixo as flechas indicam a agitação das partículas, sendo que a flecha pequena possui menor agitação e a flecha grande maior agitação. Assinale a alternativa em que a imagem está representando maior temperatura.



3) O que essa imagem representa?



- a) Sensação térmica.
- b) Agitação térmica.
- c) Equilíbrio térmico.
- d) Garrafa térmica.