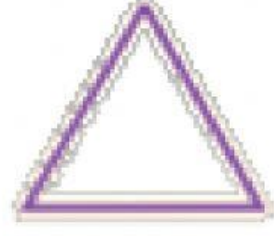



نشاط تعليمي

اسحب كل كلمة الى الشكل الثنائي الأبعاد المناسب:



شكل سداسي

مثلث

شكل خماسي

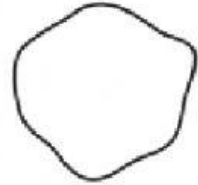
شكل ثماني

صح أم خطأ:

يعتبر الشكل التالي من المضلعات:

خطأ

صح



يعتبر الشكل التالي من المضلعات:

خطأ

صح

