

Trace une ligne entre le dessin et le fraction écrit en nombres et en mots.

$1/4$



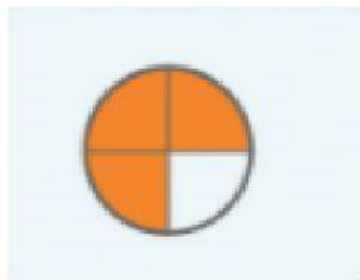
Six douzièmes

$1/2$



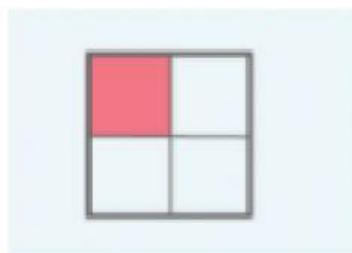
Un quart

$3/4$



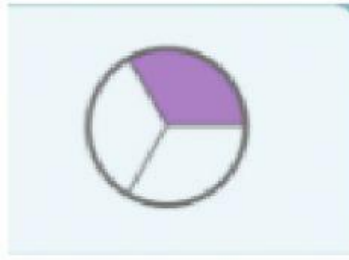
Un demi

$6/12$



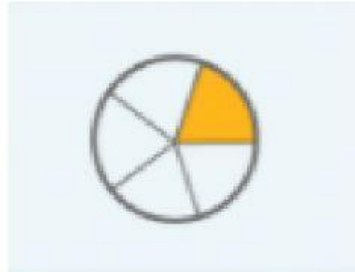
Trois quarts

$5/6$




Un cinquième

$4/8$



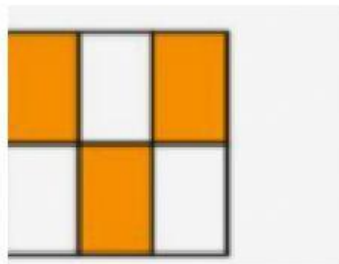
Trois sixièmes

$1/3$



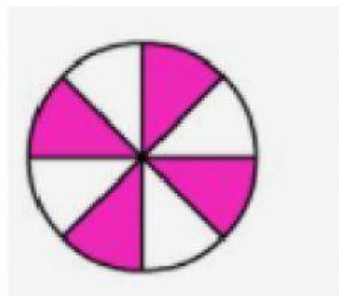
Un tier

$3/6$



Cinq sixièmes

$1/5$



Quatre huitièmes