


ESCOLA: _____

ALUNO (A): _____


ANO DE ESCOLARIDADE: _____

MATEMÁTICA


1 - Pinte somente os objetos que lembram a forma de um cone.




2 - Faça um x nos objetos que lembram uma esfera.



3 - Pinte os objetos que lembram um cilindro.



4 - Marque um X nos objetos que lembram um cubo.



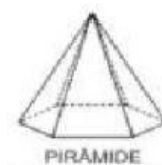
5 - Quem sou eu?

A) Tenho os quatro lados iguais. Sou seu amigo. Pode até fazer brincadeira comigo.
Sou o _____

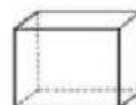
B) Sou redonda como a bola, mas não me confunda com mola. Sou a _____

6 - Encontre o nome dos sólidos geométricos no caça palavras abaixo.

P	I	R	Â	M	I	D	E
C	R	A	H	M	A	Â	Ç
I	Ç	R	C	O	S	T	O
L	L	P	C	V	A	B	N
I	O	X	C	U	B	O	J
N	G	G	R	Â	M	E	O
D	Ç	C	U	B	A	Z	N
R	I	R	O	Â	G	E	H
O	E	R	V	C	O	N	E



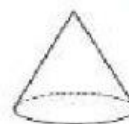
PIRÂMIDE



CUBO



CILINDRO




CONE

7 - Hora de contar! Faça os cálculos em seu caderno. Siga o modelo.

—	249	198	376	157
715	466			
932				
639				
528				
377				

715
- 249
466



8 - Pedro está brincando de montar um ábaco. O ábaco que ele montou é para representar o número 4439. Agora é sua vez! Que números os ábacos estão representando?

