


# UNIDADES DE MIL GRADO SEGUNDO- SEMANA 13

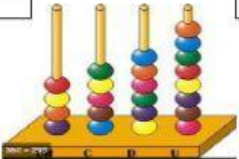
1. ESCRIBE EN LETRAS Y CON CIFRAS EL NÚMERO REPRESENTADO EN CADA ÁBACO

**A**



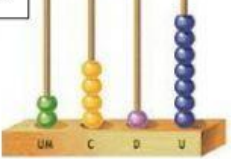
**NÚMERO  
EN CIFRAS**

**B**

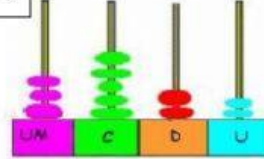


**NÚMERO EN LETRAS**

**C**



**D**



<b>A</b>		
<b>B</b>		
<b>C</b>		
<b>D</b>		

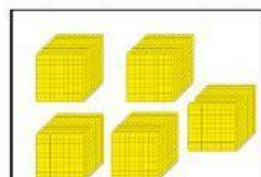
2. COMPLETA LA SERIE

NÚMERO ANTERIOR	NÚMERO	NÚMERO POSTERIOR
	2.700	
1.851		
		4.375

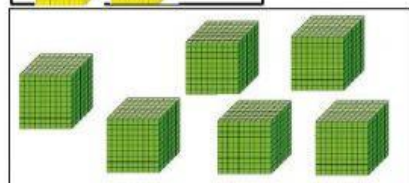
3. UNE CADA IMÁGEN CON LA CIFRA CORRESPONDIENTE



6.000



3.000



5.000