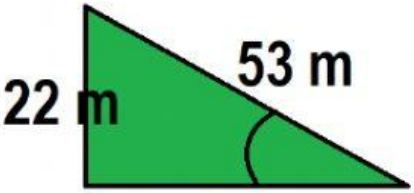
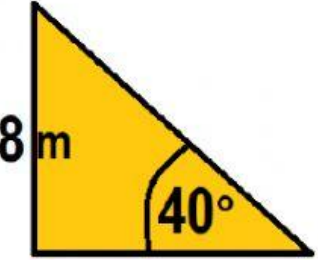
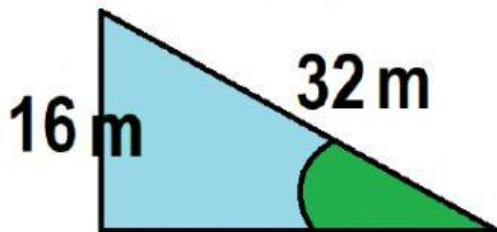


FICHA INTERACTIVA: décimo

1. Resuelva los siguientes triángulos y luego seleccione la respuesta correcta:

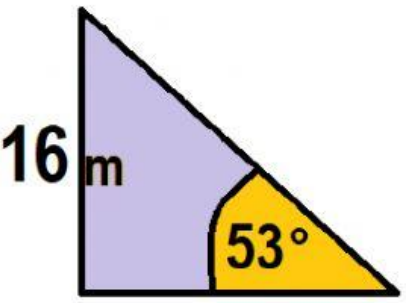
| | |
|---|---------------------------|
|  | <i>Cateto Adyacente</i> = |
| | α = |
| | β = |
|  | <i>Hipotenusa</i> = |
| | <i>Cateto Adyacente</i> = |
| | β = |

2. Maque según corresponda.



El valor 27,71 corresponde a:

3. Resuelva el siguiente triángulo y luego seleccione la respuesta correcta:

| | |
|---|---------------------------|
|  | <i>Hipotenusa</i> = |
| | <i>Cateto Adyacente</i> = |
| | β = |