

REPASO DE MATEMÁTICAS – 5



1-CÁLCULO

$6 + 0 = \underline{\quad}$

$8 - 0 = \underline{\quad}$

$6 + 1 = \underline{\quad}$

$8 - 1 = \underline{\quad}$

$6 + 2 = \underline{\quad}$

$8 - 2 = \underline{\quad}$

$6 + 3 = \underline{\quad}$

$8 - 3 = \underline{\quad}$

$6 + 4 = \underline{\quad}$

$8 - 4 = \underline{\quad}$

$6 + 5 = \underline{\quad}$

$8 - 5 = \underline{\quad}$

$6 + 6 = \underline{\quad}$

$8 - 6 = \underline{\quad}$

2-SUMAS Y RESTAS

$$\begin{array}{r} 6 \\ +1 \\ \hline \end{array} \quad \begin{array}{r} 6 \\ +2 \\ \hline \end{array} \quad \begin{array}{r} 6 \\ +3 \\ \hline \end{array}$$

$$\begin{array}{r} 7 \\ -1 \\ \hline \end{array} \quad \begin{array}{r} 7 \\ -2 \\ \hline \end{array} \quad \begin{array}{r} 7 \\ -3 \\ \hline \end{array}$$

3-DECENAS Y UNIDADES: PASAR A UNIDADES

$2 \text{ D} + 4 \text{ U} = 20 \text{ U} + 4 \text{ U} = 24 \text{ Unidades}$

$2 \text{ D} + 8 \text{ U} = \underline{\quad} \text{ U} + \underline{\quad} \text{ U} = \underline{\quad} \text{ Unidades}$

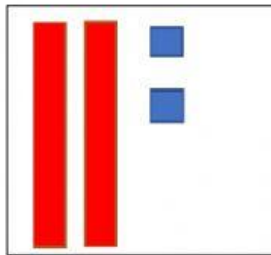
4- MONEDAS, ¿CUÁNTO DINERO HAY?



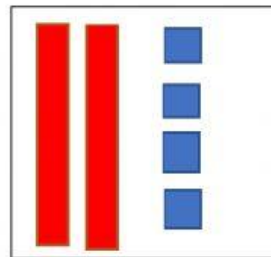
HAY _____ EUROS

5-¿ QUÉ NÚMERO ES? CUENTA Y COMPLETA

1 DECENA = 10 UNIDADES



2 DECENAS **2** UNIDADES = **22**




DECENAS UNIDADES =

6-RESUELVE EL PROBLEMA:

Marcos tiene 8 delfines. Le han regalado 2 delfines más.

¿Cuántos delfines tiene ahora en total?



	8
+	
<hr/>	