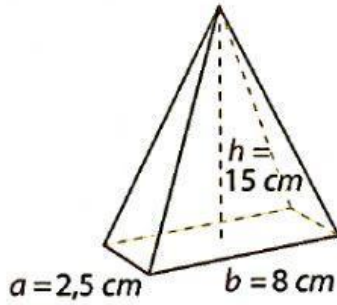


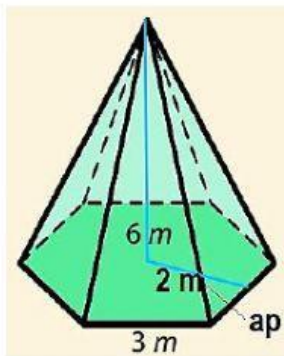
FICHA INTERACTIVA: noveno

1. Calcule el área del siguiente cuerpo:



$$V = \quad \text{cm}^3$$

2. Calcule el volumen y luego marque la respuesta correcta del siguiente cuerpo:

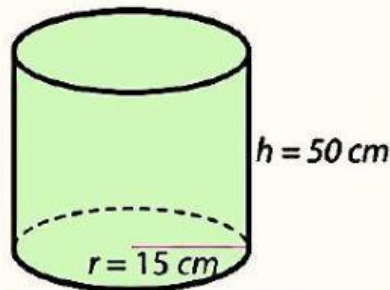


$$V = 36 \text{ m}^3$$

$$V = 50 \text{ m}^3$$

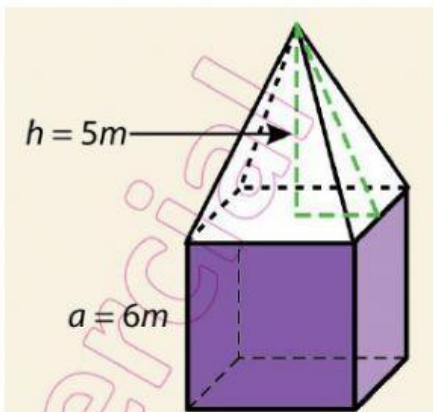
$$V = 72 \text{ m}^3$$

3. Calcule el volumen y luego seleccione la respuesta correcta:



$$V = \quad \text{cm}^3$$

4. Calcule el volumen total de:



$$V = \quad \text{cm}^3$$