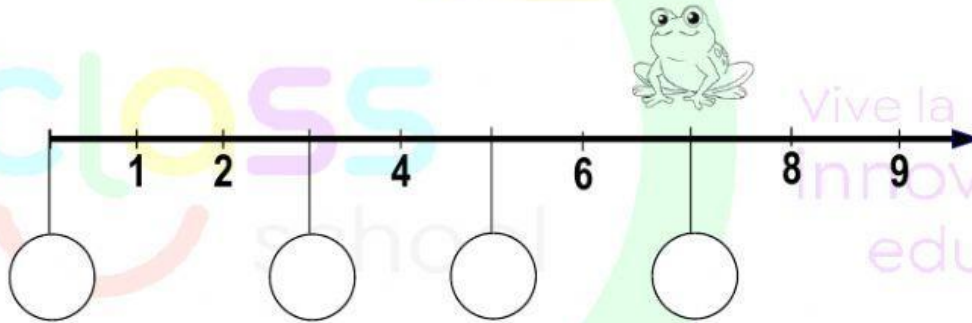


## Razonamos en la recta numérica.

1. Si el sapito mostrado sobre la recta numérica salta en cada espacio vacío, ¿cuáles serán los números que corresponden en dichos círculos?



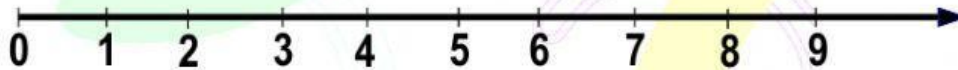
2. Coloca en el recuadro vacío el numero según corresponda al salto del conejo.  
a)

**Comienza en 5  
y salta hacia  
atrás 3  
espacios**



**Comienza en 8  
y salta hacia  
atrás 5  
espacios**

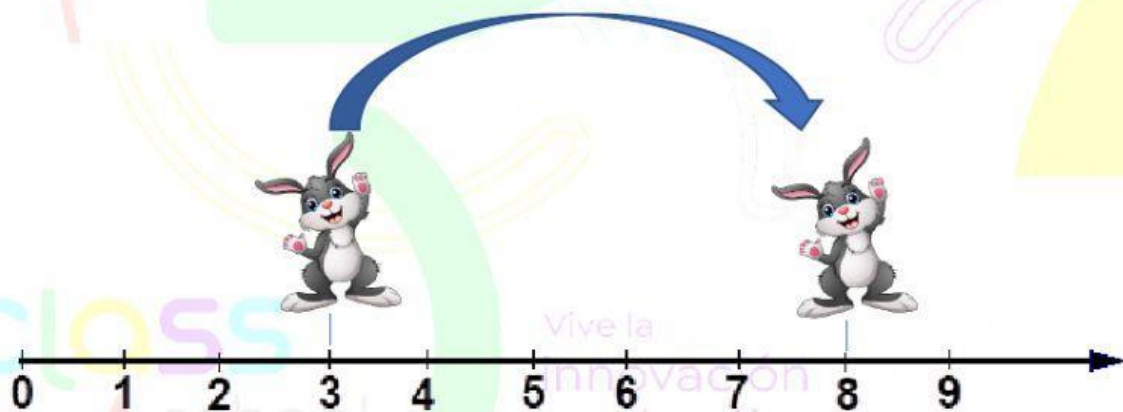




b)



3) Ayudemos al conejito a contar sus pasos



Cuantos saltos dio el conejito para llegar al punto 8: \_\_\_\_\_