

EVALUACIÓN DE MATEMÁTICA I BIMESTRE

Claret
Academia

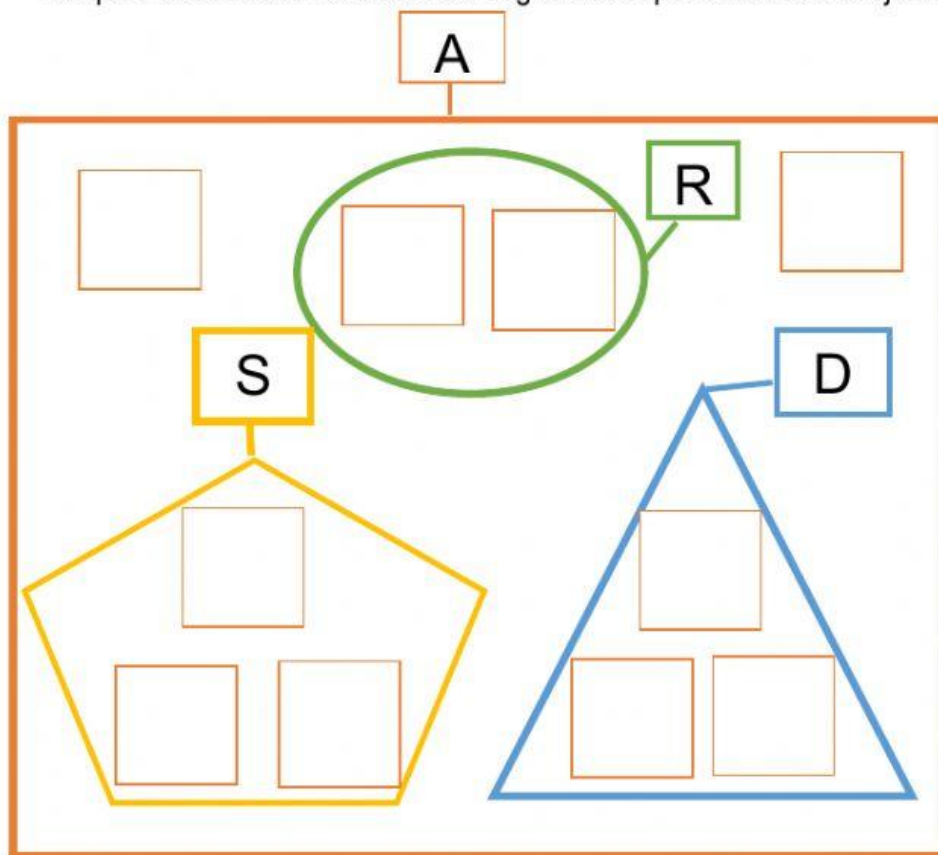
ESTUDIANTE:

GRADO: PRIMERO SECCIÓN: AMARILLO

PROF: Eugenia Mendoza Flores Fecha: 07/05/2021

C1: RESUELVE PROBLEMAS DE CANTIDAD

1. Observa y escucha en el nombre de cada conjunto las características, para que clasifiques y ubiques arrastrando los animales según corresponda a cada conjunto.



2. Observa los conjuntos armados y responde arrastrando los símbolos de pertenencia y no pertenencia e incluido y no incluido según corresponda a los enunciados.



..... A



..... A

S..... A



..... S



..... R

D..... R



..... R



..... R

R..... A



..... D



..... S

A..... S



..... A




..... S



3. Observa los siguientes conjuntos en diagramas de ven y determínalos por extensión y comprensión según corresponda.

F = { , , ,  }


V = { , , ,  }



V

Por extensión

Por comprensión



F

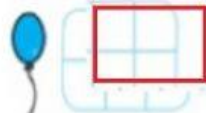
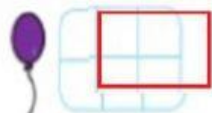
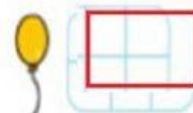
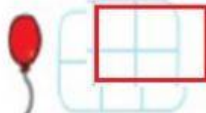
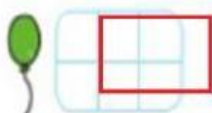
Por extensión

Por comprensión

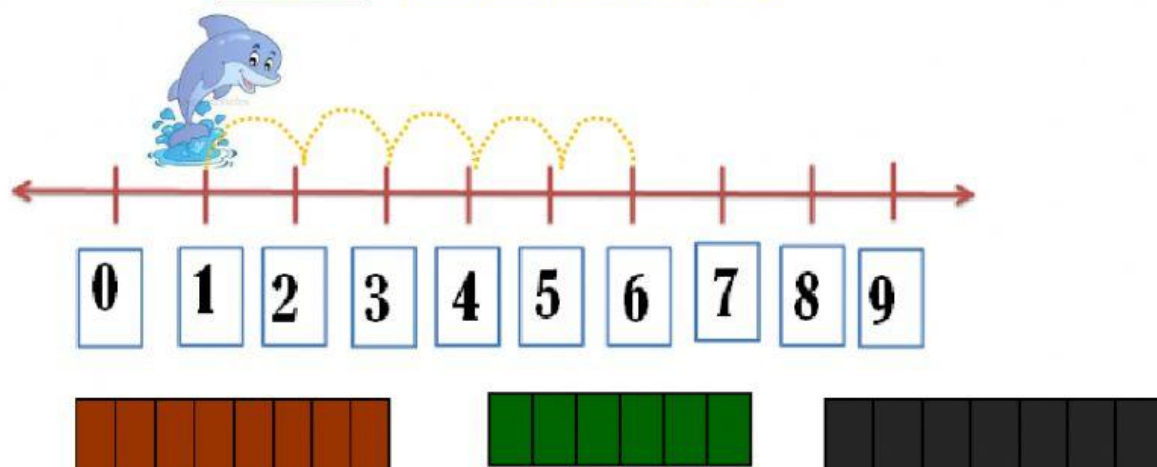
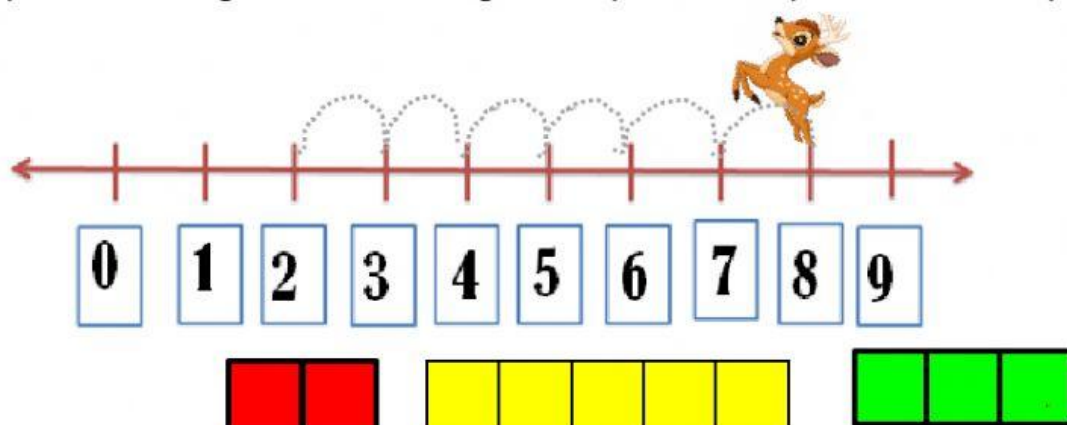
F = { Las frutas }

V = { Las verduras }

4. Cuenta la cantidad de globos de cada color y coloca el cardinal escribiendo.




5. Los animalitos saltan avanzando y retrocediendo selecciona el punto de llegada en la regleta que corresponde a la respuesta.




C2: RESUELVE PROBLEMAS DE REGULARIDAD , EQUIVALENCIA Y CAMBIO.


1. Arrastra y completa la cantidad de elementos de acuerdo al número. Lo que sobra lo arrastras al cajón vacío y escribes el número de elementos que sobran


4






6





2. Observa la imagen son los juguetes que ordeno Clarita y desea comparar cantidades usando los cuantificadores "más que" "menos que" "tantos como"



Elige la respuesta seleccionando la imagen de acuerdo a los enunciados.

Hay más muñecas que.....





Hay menos pelotas que.....



Hay tantas pelotas como.....



3. Observa la siguiente sucesión y selecciona el patrón de formación



4. Completa la siguiente sucesión grafica arrastrando las imágenes a su lugar.



C3: RESUELVE PROBLEMAS DE FORMA MOVIMIENTO Y LOCALIZACIÓN

1. Observa la siguiente imagen, de un día de clases antes de esta cuarentena, el sitio vacío dónde señala la flecha es tu sitio, ese es el referente. Encierra la respuesta correcta a las afirmaciones siguientes.



a. ¿Quién está delante de ti?



b. ¿Quién está detrás de ti?



c. ¿Quién está a tu lado izquierdo?



d. ¿Qué objeto está abajo del periódico mural?



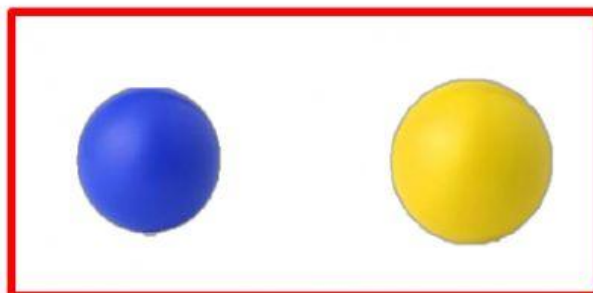
e. ¿Qué objeto está encima del estante?




f. ¿Qué objeto está dentro del estante?



2. Lupita juega tenis, ella es zurda porque su mano más hábil es la izquierda. ¿De qué color es la pelotita que sostiene Lupita con la mano que agarra su raqueta? Selecciona la respuesta correcta el recuadro rojo.



3. Observa la siguiente imagen y responde colocando (V) si la afirmación es verdadera y (F) si la afirmación es falsa



a. Cerca del profesor está



y



()

b. Lejos del profesor está



()

c. El estante verde está cerca del profesor



()

d. El globo terráqueo está lejos de la niña.



()

e. Dentro del aula están los profesores.

()

f. Fuera del aula están los niños y su profesor.

()

Prof. Eugenia Mendoza