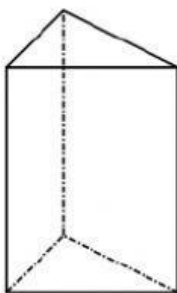
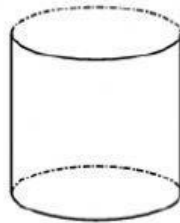
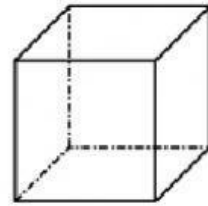
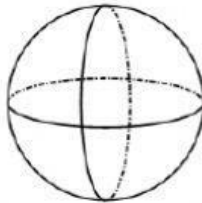
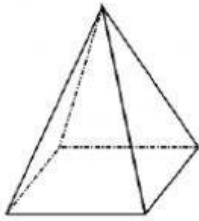


Körper

beschrifte die Körper:



das Prisma

die Kugel

der Quader

der Zylinder

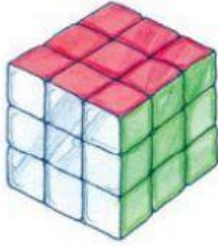
die Pyramide

der Würfel

der Kegel

Körper

verbinde richtig:



das Prisma




der Quader



die Pyramide



die Kugel



der Zylinder



der Würfel



der Kegel

Körper

verbinde richtig:



Würfel



Quader



Kugel



Zylinder
(Walze)

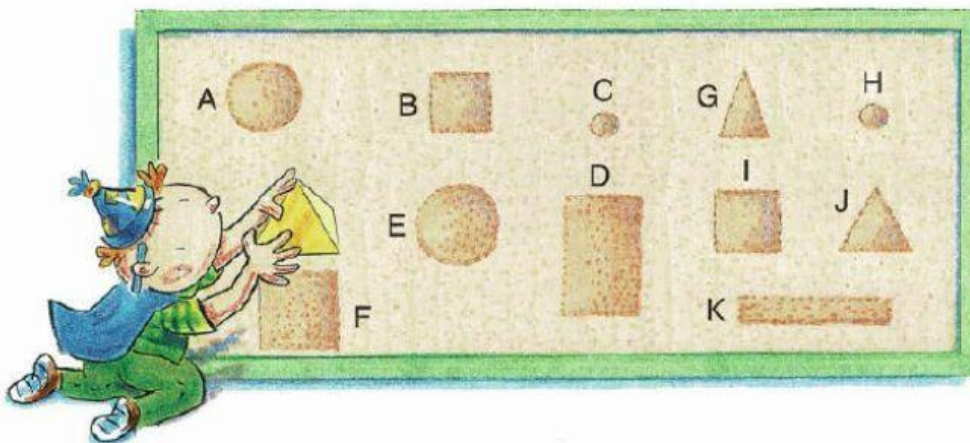


Kegel



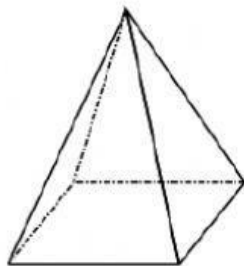
Pyramide

② Abdrücke im Sand:

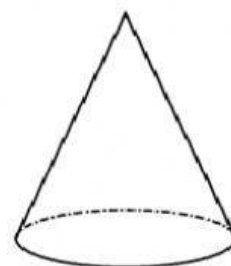


Welche Körper wurden
in den Sand gedrückt?
Ordne zu.

ergänze die Angaben:



Ecken	
Kanten	
Flächen	



Ecken	
Kanten	
Flächen	