

APRENDEMOS A CONTAR EN LA GRANJA DE UBALDO

Jaime visitó la granja de su abuelo Ubaldo y quedó emocionado al ver tantos animales.



- Colorea un casillero por cada animal que cuentes en el dibujo anterior. Luego escribe el número correspondiente en el círculo.



--	--	--	--	--	--	--	--	--	--



--	--	--	--	--	--	--	--	--	--



--	--	--	--	--	--	--	--	--	--



--	--	--	--	--	--	--	--	--	--



--	--	--	--	--	--	--	--	--	--



--	--	--	--	--	--	--	--	--	--









Responda a las siguientes preguntas:

- ✓ ¿Cuántos tipos de animales hay en la granja de Ubaldo? _____
- ✓ ¿Cuántas gallinas hay? _____
- ✓ ¿Cuántos conejos hay? _____
- ✓ ¿Qué animal hay en mayor cantidad? _____
- ✓ ¿Qué animal hay en menor cantidad? _____
- ✓ ¿Qué tipos de animales hay en igual cantidad?

- ✓ ¿Cuántos animales hay en total en la granja de Ubaldo? _____

Relaciona la cantidad de animales que tiene el abuelo Ubaldo:

	8
	4
	6
	8
	7
	9