



UNIDAD EDUCATIVA MONTESSORI

PRUEBA TRIMESTRAL PRIMERA PARTE ÁREA MATEMÁTICA

1. Haz click en la opción correcta:

En el parque de Auquisamaña Luisa encontró 4 tarjetas con los dígitos:

8 3 9 5

Un viento travieso cambió de posición a las tarjetas y formó el mayor.

¿Cuál es el número mayor que formó?

3958

8 395

9853

2. ¿Qué número se forma con 9 decenas, 4 unidades, 3 unidades de mil y 2 centenas?

3 294

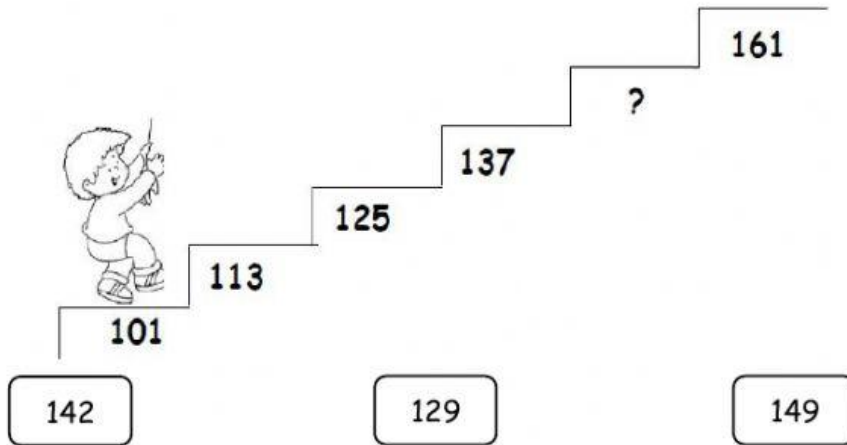
9 324

9 432


4 923

3. Observa el cartel encontrado en un juego para niños, realiza el cálculo y haz click en la respuesta correcta.

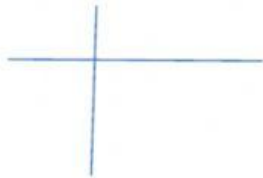
6. Leonardo quiere subir escalones y se da cuenta que falta el numeral en uno de ellos. Ayúdale a descubrir cuál es el número: (Haz click en el número que falta)



7. Une los pares de rectas con su nombre:



RECTAS SECANTES OBLICUAS



RECTAS SECANTES PERPENDICULARES



RECTAS PARALELAS